



YÖRÜNGE AKADEMİ

KPSS

ÖNLİSANS / LİSE

GENEL YETENEK

GENEL KÜLTÜR

DENEME SINAVI
ÇÖZÜM KİTAPÇIĞI

1

2014

**YENİ SINAV
FORMATINA
UYGUN**

DİKKAT

1. Genel Yetenek Genel Kültür Testi, Genel Yetenek (1-11) ve Genel Kültür (12-21) testlerinden oluşmaktadır. Her testte **60 soru** bulunmaktadır.
2. Genel Yetenek Genel Kültür Testi için verilen **toplam** cevaplama süresi **120 dakikadır (2 saat)**.
3. Cevaplamaya istediğiniz testten ve sorudan başlayabilirsiniz. Her soru ile ilgili cevabınızı, cevap kâğıdında o soru için ayrılmış olan yere işaretlemeyi unutmayınız.
4. Testler puanlanırken her testteki doğru cevaplarınızın sayısından yanlış cevaplarınızın sayısının dörtte biri düşülecek ve kalan sayı o testle ilgili ham puanınız olacaktır. Bu nedenle hakkında hiçbir fikriniz olmadığı soruları boş bırakınız. Ancak, soruda verilen seçeneklerden birkaçını eleyebiliyorsanız kalanlar arasından doğru cevabı kestirmeye çalışmanız yararınıza olabilir.

1. Çocukluğumuzda duyduğumuz masallara, yer yer şiirler ve türküler karışırdı. Aradan otuz kırk yıl geçtikten sonra masalını topyekün unuttuğumuz halde, bu türkülerini dün duymuş gibi hatırlamamıza ne buyrulur? Yoksa bize, milletçe şiire kulak kabarttıran, şiirin kendisi değil de şiiri kanatları üzerinde taşıyan türküler midir?

Bu parçada geçen “şiiri kanatları üstünde taşıyan türküler” sözüyle anlatılmak istenen aşağıdakilerden hangisidir?

- A) Şiirin, türkülerden doğup geleceğe ulaşması
- B) Şiirin türkülerden değerli olması
- C) Türkülerin, şiirden önemli olması
- D) Şiir ve türkülerin ulusal değerler olduğu
- E) Şiir ve türkülerin aynı zamanda ortaya çıkması

2. Her insanın bir ihtirası, bir mesleği, bir merakı oluyor. Çoğu insanın zekası bu alanlarda gelişiyor. Buna karşın başka alanlarda gelişme olmayabilir. Oysa bu sanatçının beyninde sürülmemiş tarla yok gibiydi.

Bu parçada geçen “beyninde sürülmemiş tarla yok” sözüyle yazarın hangi özelliği verilmek istenmiştir?

- A) Akılcılığı
- B) Çok yönlülüğü
- C) Çalışkanlığı
- D) Yenilikçiliği
- E) Tutarsızlığı

3. Bu bir hak aramanın, adalet peşinde koşmanın öyküsüdür. Başlarında duran adam ise tam bir ikilemin içindedir. O, romancı olmak ister; ama koşullar onu sendika şube başkanlığına aday olmak zorunda bırakır. Bir yandan da Japonların “İki tavşanın peşinde koşarsan hiçbirini yakalayamazsın.” atasözünü anımsar acı acı.

Bu parçada verilen Japonların atasözü ile aşağıdakilerden hangisi anlamca özdeştir?

- A) Bir ipte iki cambaz oynamaz.
- B) Bir koltuğa iki karpuz sığmaz.
- C) İki testi tokuşunca biri elbet kırılır.
- D) İki baş bir kazanda kaynamaz.
- E) Bir elin sesi çıkmaz.

4. (I) Akbal'ın öyküleri, insanın bırakılmışlıklarını, unutulmuşluklarını, geçmişte kalan anılarını işleyen çalışmalardır. (II) Kimi zaman onun ince hüznü, okuyucusunu ağlatmaz; ama gözleri dolu dolu bırakır. (III) Bu özelliklerinin yanı sıra onun toplumsal özü de vardır. (IV) Öykücü ve denemeci Akbal'ın alabildiğince işlek, akıcı bir dili, usta bir öykü kuruculuğu vardır. (V) Öykülerinin kişileri büyük kentlerin kenar semtlerinin insanlarıdır.

Bu parçada numaralanmış cümlelerin hangisi, sözü edilen yazarın üslubu ile ilgilidir?

- A) I
- B) II
- C) III
- D) IV
- E) V

5. Kitapların yenilerini de eskilerini de severim: ama yenilere her zaman güven olmaz.

Aşağıdakilerden hangisi bu cümleden çıkarılabilecek bir yargıdır?

- A) Yeni kitaplar kolaylıkla sevilmez.
B) Eski kitaplar yenilerden daima üstündür.
C) Kitabın değeri eskiliğinden gelir.
D) Yeni kitaplar, eskilerden değersizdir.
E) Kitabın değeri zaman içinde ortaya çıkar.

6. (I) Sevgili kır çiçekleri; kavgalardan, iktidar savaşlarından, cinayetlerden sonra büyük insanlığımız gıptaıyla seyrediyor sizleri bugün. (II) Sizler, kökünüzü toprağa saldınız, yapraklarınızı güneşe bıraktınız ve narin çiçekler açtınız. (III) Yaşamların en sessizini sürdürdünüz. (IV) Biz birbirimizi dışlarken, siz karışması olanaksız iki şeyi, gökyüzünden süzülen güneşi ve toprağı buluşturduunuz. (V) Kucak açmanın verdiği yoksulluktan, dünyadaki servetlerin en büyüğünü, yani yaşamı doğurdunuz.

Yukarıdaki numaralandırılmış cümlelerden hangilerinde insanlığa yapılan “olumsuz eleştirisi” söz konusudur?

- A) I ve II B) I ve IV C) II ve III
D) III ve IV E) III ve V

7. (I) Tunceli Milli Parkı, doğal zenginliklerin sömürülüp yok edilmesi gerektiğini sanan zihniyetin kurbanı oluyor. (II) Munzur Vadisi'ne yapılacak barajlarla tamamlanmak üzere olan Mercan Barajı'nın suları, yüz binlerce yılda oluşmuş benzersiz bir doğa parçasını yok edecek. (III) Milli Park jeolojik yapısıyla eşine az rastlanır bir zenginlikte. (IV) Buzul gölleri, şelaleleri, ormanları, inanılmaz görsel şölenler sunuyor. (V) Parkta ayrıca kurt, tilki, ayı, kınalı keklik, su samuru gibi türler de yaşıyor.

Yukarıda numaralanmış cümlelerden hangisinde kişisel görüşe yer verilmemiştir?

- A) I B) II C) III D) IV E) V

8. Büyük sanat eseri, yol göstermek, düzeltmek istediğinden değil, yaratmak ihtiyacından doğmuştur.

Aşağıdakilerden hangisi anlamca bu cümleye en yakındır?

- A) Büyük sanat eseri önemli mesajlar içerir.
B) Büyük sanatçı, eseriyile toplumu yönlendiren kişidir.
C) Gerçek yapıt zamana yenilmez, ölümsüzdür.
D) Sanatçı, eserini, toplum için değil, kendi duygularını anlatabilmek için oluşturur.
E) Büyük sanat eserleri, büyük sanatçıların çabalarıyla oluşur.

9.

- (I) Genç insan yargı üretmekten çok uygulamaya yatkındır.
(II) Kuşaklar arasındaki çatışma ve yabancılaşma, bir yerde kaçınılmazdır.
(III) Gençler, düşünce üretmektense düşüncelerini yaşama aktarmaya çalışır.
(IV) Genç dedin mi, haşarı bir insan gelir aklıma: duygularında, düşüncelerinde haşarı.

Yukarıdaki numaralandırılmış cümlelerden hangileri anlamca birbirine en yakındır?

- A) I ve II B) I ve III C) I ve IV
D) II ve IV E) III ve IV

10. Gece geç saatlere kadar kitap okuduğum zaman uyku

I II III IV V

uyuyamıyordum.

Altı çizili sözcüklerden hangisi çıkarılırsa cümlede bir anlam daralması ya da anlatım bozukluğu olmaz?

- A) I B) II C) III D) IV E) V

11. Aşağıdaki tümcelerın hangisinde eylemi yapan belli değildir?

- A) Konuklar geç saatlere kadar oturdu.
- B) Sınava güzelce hazırlandık.
- C) Yılbaşı için vitrinler süslendi.
- D) Bahçedeki ağaç geçen ay susuzluktan kurudu.
- E) Yaptığım espiye hemen alındı.

12. Ansiklopediler () Ayşe () nin, mutlu bir çocukluk geçirdiğini yazar () on yedi yaşına kadar klasik konularda eğitim gördüğünden de söz eder ()

Yukarıdaki parçada parantezlerle belirtilen yerlere sırasıyla aşağıdaki noktalama işaretlerinden hangileri getirilmelidir?

- A) (,)(')(;)(.)
- B) (;)(.)(,)(!)
- C) (,)(')(;)(?)
- D) (;)(-)(,)(.)
- E) (!)(')(,)(.)

13. Kuraklık () o büyük susuzluk () Bugünlerin geleceği belliydi () Ne kadar da korkunçtu doğayı çılgınca tüketiş öyle ()

Yukarıdaki parçada parantezlerle belirtilen yerlere sırasıyla aşağıdaki noktalama işaretlerinden hangileri getirilmelidir?

- A) (...)(...)(;)(?)
- B) (,)(...)(.)(!)
- C) (,)(;)(.)(?)
- D) (!)(...)(;)(!)
- E) (,)(.)(.)(?)

14. Aşağıdaki cümlelerden hangisinde bir yazım yanlışı vardır?

- A) Her şey kendi karşıtını doğurur, derler.
- B) Herkes kendini düşürür ve haklı görür.
- C) Herhangi bir yanlışlık yapıldığını sanmam.
- D) Bugün yaşadığı bir olay, onu derinden yaraladı.
- E) Ondan hiçbir şey istemedik ve beklemedik.

15. Aşağıdaki cümlelerden hangisinde bir anlatım bozukluğu vardır?

- A) Defterden yırttığı sayfayı arkadaşına vermişti.
- B) Telefonla arayıp haberi vermişti.
- C) Adamı sevmiyor, yine de davetiye gönderiyordu.
- D) Öğretmene gitmiş, her şeyi anlatmıştı.
- E) Çiçekleri seviyor, her sabah suluyordu.

16. Aşağıdaki cümlelerden hangisinde yüklemi durum yönünden niteleyen sözcük vardır?

- A) Hiç konuşmadan sessizce sınıfa girdi.
- B) Yaptığı yemekleri çöpe attı.
- C) Yazları tatile çıkar, aylarca gelmezdi.
- D) Çarşıdan aldığı kitapları dolabına yerleştirdi.
- E) Kitap okumayı alışkanlık haline getirmeliyiz.

17. Uzak Teleskopu ile güneş sistemimiz dışındaki bir gezegenin ilk defa bir atmosfere sahip olduğu tespit edilmiştir.

Bu cümledeki anlatım bozukluğunun nedeni aşağıdakilerden hangisidir?

- A) Sözüün yanlış yerde kullanılması
- B) Çelişen sözcüklerin bir arada kullanılması
- C) Sözcüğün yanlış anlamda kullanılması
- D) Gereksiz sözcük kullanımı
- E) Mantık yanlışı

18. Aşağıdaki cümlelerin hangisinin yüklemi ötekilerden farklıdır?

- A) Güneş pırıl pırıl parlıyordu denizin üstünde.
- B) Öğrenciler sonunda ödevlerini bitirebildiler.
- C) Sınava az bir zaman kala çalışmaya koyuldu.
- D) Ortalığı müthiş bir toz duman kaplamıştı.
- E) Dün akşam geç saatte seni arayan bendim.

19. "Sütten ağız yanan yoğurdu üfleyerek yer."

Tümcesinde aşağıdaki ses olaylarından hangisi yoktur?

- A) Ünsüz benzeşmesi (sertleşme)
- B) Ünsüz yumuşaması (ünsüz değişimi)
- C) Ünlü düşmesi
- D) Ünsüz düşmesi
- E) Ulama

20. Toplumda geleneğe sırt çevirme eğilimi giderek artıyor. Bizi Doğulu yapan bir geçmiş ve gelenek olduğu gibi, Batılıyı da Batılı yapan bir geçmiş, bir gelenek bulunduğunu düşünmüyoruz. O geçmişi, geleneği anlamaya çalışmıyoruz. Batı uygarlığı, birden doğmamış, yüzyılların içinden gelmiştir. Biz o uygarlığı hemen elde etmek istiyoruz. Toplumsal çatışmalar da buradan doğuyor.

Bu parçanın anlatımında aşağıdakilerden hangileri kullanılmıştır?

- A) Benzetme - karşılaştırma
- B) Açıklama - tanımlama
- C) Betimleme - örnekleme
- D) Tartışma - karşılaştırma
- E) Tartışma – örnekleme

21. Ünlü yazar, edebiyatımıza sanatlar arasındaki olması gereken geçirgenliği taşımıştır. (I) Oysa o, yaşamı algılamamıza destek olan her dalla ilgilenmiş, bunları kendi iç dünyasına yansıtarak paylaşmaya döndürebilmiş bir insandı. (II) Bizde sanatçılar kendi sanat dalları dışındaki dallara fazla ilgi göstermezler. (III) Bu yolla daha özgün, daha ergin bir dünya yaratabildi. (IV) Onun bütün yazdıklarından sorumlu ve gerçek bir aydın olduğunu görebiliyoruz.

Bu parçada numaralandırılmış cümlelerden hangi ikisi yer değiştirirse düşünce bütünlüğü sağlanmış olur?

- A) I ve II
- B) I ve III
- C) II ve III
- D) II ve IV
- E) III ve IV

22. Hüsnü Göksel, aslında bir doktordur. Bir doktor olmanın Göksel'in ruhunda oluşturduğu dalgalanımların ona çok yönlü kimlik kazandırdığına inanıyorum. En zor, en iyi eğitim almayı, bu eğitimi en zorlu hocalarla geliştirmeyi, çok çalışmayı ve hobilerini bir iş gibi ciddiye almayı başardı. Onun sanatla ilişkisi, insanla ilişkisi gibiydi. Derindi, içtendi, emeğine hiç acımadan sunduğu her şey yüreğinden kopuyordu.

Bu parça aşağıdakilerden hangisine verilmiş bir yanıt olabilir?

- A) Doktor olmak sanatla uğraşmayı engeller mi?
- B) Hüsnü A. Göksel'in doktor kimliğini değerlendirir misiniz?
- C) Hüsnü A. Göksel'in kişiliği ve sanatçı kimliğini değerlendirir misiniz?
- D) Doktor olmak için nasıl bir eğitim almalı?
- E) İyi bir kariyer için nasıl bir yol izlemek gerekir?

23. (I) Dolmuş, büyük kentlerin ulaşımında önemli araçlardan biri. (II) Dolmuşlar iş saatlerinin yoğun olduğu zamanlarda tıka basa dolu oluyor. (III) Toplu taşıma araçlarına gereksinim arttıkça, dolmuş sayısı da artıyor. (IV) Dolmuş şoförlerinin yolculara karşı davranışları, saygı sınırlarının çok dışında. (V) Buna bağlı olarak trafiğe daha çok dolmuş çıkıyor. (VI) Böylece çok sayıda dolmuş, trafiğin tıkanmasının, ulaşımında gecikmenin nedenlerinden biri haline geliyor.

Yukarıda numaralanmış cümlelerin hangisi anlatımın akışını bozmaktadır?

- A) II
- B) III
- C) IV
- D) VI
- E) VI

24. Onun zengin yaşamı sevinçli bir dünyaya açılmamıştı. İlk anımsadığı şeyler bir Trakya kasabasında başlamıştır. Yunan bayrakları, Yunan askerleri vardı o kasabada, hüznü vardı ve sen vardın. Mustafa Kemal Paşa idin. Tek umut ışığı idin kurtuluş için. Küçük kafamın içinde kocaman bir insandın sen, insanüstü idin, tek başına düşmanlara karşı dövüştüyordun. Onları yenip esaretteki babamı getirecektin bana. Bu kadarcıktı beklentim senden. Resmini görmemiştin; ama biliyordum. Yüzün güzeldi. Emanettin Kemal'im diye.

Yukarıda geçmişe yönelik anlatılanlardan aşağıdakilerden hangisine ulaşamaz?

- A) Mustafa Kemal adı o dönemde insanlar için umut demektir.
- B) Çocuğun babası, düşmanlar tarafından esir alınmıştır.
- C) Küçük çocuk, Atatürk'ün resimlerine hayrandır.
- D) Kemal Paşa'nın adına efsaneler anlatılmıştır.
- E) Kemal Paşa, düşmanla savaşı bitirdiğinde kurtuluş gerçekleşecektir.

25. İnsanlar çeşitli yanılgılar içindedir. Bunlardan biri ölümü yaşamının tersi olarak algılamaktır. Oysa ölüm, doğumun tersi, yaşamsa doğum ve ölüm arasındaki çizgi değil midir? Öyleyse doğmak için ne kadar tasalandıysak, tersi için de o kadar tasalanmamız yeterli olacaktır. Doğuşuna ve ölümüne dair korkulardan arınmış kişinin elinde sadece duru bir yaşam kalır. Yaşamın bütün mucizeleri su yüzüne çıkmaya başlar. Sevgi daha da tatlılaşır, çalışmak derin bir haz verir, ne kadar kırılırsa kırılırsın hep yeni umutlar filizlenmeye devam eder.

Bu parçada verilen ana düşünce ile aşağıdakilerden hangisi çelişir?

- A) Ölüm, yaşamın teri değil, yaşamın sona ermesidir.
- B) İnsanlar, doğup doğmama tasası içinde olmazlar.
- C) Yaşamın mucizelerine inanmak gerekir, hayatın tadı burada saklıdır.
- D) İnsanlar hep bir beklenti içinde olur.
- E) Yaşam, doğumla ölüm arasında çizgi ise yaşamı önemsemek anlamsızdır.

26. Ona göre zihninde doğuştan hiçbir düşünce ve ilke mevcut değildir. İnsan zihni, dünyaya boş bir levha olarak gelir ve deneylerimiz zaman içinde bu boş levhayı doldurur. En yakın düşüncelerden en soyut düşüncelere kadar bütün bilgilerimiz deneyden doğar. Buna çevreden alınanlar da eklenir.

Bu parçada tanıtılan düşünürün, aşağıdakilerden hangisini benimsemesi beklenemez?

- A) İnsan algılama yeteneği olan bir varlıktır.
- B) Bilgi edinmek sadece deneyle gerçekleşir.
- C) İnsan; doğuştan gelen özellikleri ile çevrende aldıklarını birleştirir.
- D) İnsan zihni zamanla bilgi ile dolar.
- E) Bilgi birikimi soyut ve somut bilgiler olarak zihinde depolanır.

27. Edebiyatta her şey söylenmiştir. Evet, bu doğrudur; ama aynı şeyi türlü türlü görebileceğimiz gibi, türlü türlü de söyleyebiliriz. Edebiyat dünyasındaki bazı yapıtların konularının aynı olmasına karşın farklı oldukları da su götürmez bir gerçektir; çünkü...

Düşüncenin akışına göre, bu parçanın sonuna aşağıdakilerden hangisi getirilebilir?

- A) yaratıcılarının adı bellekten kolay silinmez.
- B) kendine güvenen sanatçı bunu önemsemez.
- C) sanatçının çağından etkilenmemesi olanaksızdır.
- D) dünyada ele alınacak çok konu vardır.
- E) bunların her biri kendine özgü bir anlatım taşır.

28. "Vehibe abla hepimizin büyüğüdür."

Verilen örnek tümceden zorunlu olarak çıkarılabilecek sonucu bulunuz.

- A) Vehibe abla en kültürlümüzdür
- B) Vehibe abla hepimizden yaşlıdır
- C) Vehibe abla en büyük kardeştir
- D) Vehibe abla çok şey yaşamıştır
- E) Vehibe abla ailenin en büyüğüdür.

29.

- I. Fırçalar da palet de tuval gibi pınl pınıldır.
- II. Savaş başlamıştır artık
- III. Sonra birden, fırçayı alıp sürüveririm tuvale.
- IV. Ama bir türlü başlayamam; uygun ortamı, gerekli koşulları ararım.
- V. Önce tertemiz tuvali koyarım karşıma.

Numaralandırılmış tümceleri anlamlı bir bütün oluşturacak şekilde sıraladığımızda, sonuncu tümce hangisi olur?

- A) I
- B) II
- C) III
- D) IV
- E) V

30. "Kış turizmini geliştirme yolunda yatırım yapmak istiyoruz. Bu amaçla..."

Yukarıdaki tümcede boş bırakılan yere aşağıdakilerden hangisi getirilemez?

- A) Zigana, Palandöken ve Sarıkamış'ta girişimlerde bulunduk.
- B) Torosların kuzey yamaçlarında bazı merkezler kurmaya başladık.
- C) Kış turizmine uygun yerlerde yatak sayımızı artırma çabasındayız.
- D) Erciyes'te, Ilgaz'da kış sporları için hazırlıklara giriştik.
- E) Dağ ve yayla turizminin giderek ilgi çektiğini gördük.

31. $x^2 - 2x - 4 = 0$

denkleminin kökleri x_1 ve x_2 olduğuna göre $x_1^2 \cdot x_2 + x_1 \cdot x_2^2$ kaçtır?

- A) 12
- B) 6
- C) 4
- D) -2
- E) -8

32. $\frac{||x|+9|}{|x|+|-x|} \geq 2$ **eşitsizliğini sağlayan x tamsayıları kaç tanedir?**

- A) 3
- B) 4
- C) 5
- D) 6
- E) 7

33. Bir tren saatte 60 km hızla giderse, bir sonraki istasyona planlanandan 10 dakika geç ulaşıyor. Eğer tren saatte 80 km hızla gitseydi aynı yere 15 dakika erken ulaşacaktı.

Buna göre, iki istasyon arasında planlanan yolculuk süresi kaç saattir?

- A) 1 B) 1,5 C) 2 D) 2,5 E) 3

34. 1 den n ye kadar olan doğal sayıların toplamının, (n+1) den 15 e kadar olan doğal sayıların toplamına oranı $\frac{1}{7}$ olduğuna göre, n kaçtır?

- A) 4 B) 5 C) 6 D) 7 E) 8

35. $a - (b - (c - (a - b + c)))$ ifadesinin eşiti aşağıdakilerden hangisidir?

- A) -b B) a C) 0
D) a + b E) a - b + c

36. a, b, c birer tamsayı

$$\frac{8}{a} = b = \frac{c}{4}$$

olduğuna göre, a+b+c toplamının alabileceği en büyük değer en küçük değerden kaç fazladır?

- A) -82 B) -41 C) 0 D) 41 E) 82

37. a, b, c ve d birer tamsayıdır.

$$a + d = 2c$$

$$a - b = 2c + 1$$

olduğuna göre, aşağıdakilerden hangisi kesinlikle doğrudur?

- A) b çift ise d tektir. B) c çift
C) a tek ise b tektir. D) b tek
E) a tek ise d çifttir.

38. $x \cdot y^2 \cdot z^3 \cdot t^5 < 0$ olduğuna göre;

- I. y, z, t den en az birisi negatiftir.
II. x, y, z, t nin hepsi negatif olabilir.
III. x ve y kesinlikle negatiftir.
IV. z ve t kesinlikle negatiftir.

yukarıdaki yargılardan hangileri doğrudur?

- A) Yalnız I B) Yalnız II C) I ve II
D) III ve IV E) II ve IV

39. Ardışık üç pozitif çift tamsayının çarpımı, bu sayıların toplamının 20 katına eşittir.

Buna göre, büyük sayı kaçtır?

- A) 6 B) 8 C) 10 D) 12 E) 14

40. ABC üç basamaklı sayısı rakamları toplamının 47 katı, BCA üç basamaklı sayısı rakamları toplamının 34 katı olduğuna göre, CAB üç basamaklı sayısı rakamları toplamının kaç katıdır?

- A) 20 B) 27 C) 30 D) 32 E) 36

41. $\frac{1 + \frac{1}{3} : \frac{1}{4}}{2\frac{1}{2} - \frac{1}{6} : \frac{1}{4}}$ işleminin sonucu kaçtır?

- A) $-\frac{3}{2}$ B) -1 C) 1 D) $\frac{3}{2}$ E) $\frac{14}{11}$

42. $3^{a+1} = 6^a$ olduğuna göre, $3^{\frac{1}{a}} + 2^{2a}$ ifadesinin değeri kaçtır?

- A) 5 B) 7 C) 9 D) 11 E) 13

43. $m.n = p.r = 12$

$$\frac{1}{n} + \frac{1}{r} = \frac{1}{4}$$

olduğuna göre $m+p$ toplamı kaçtır?

- A) 1 B) 3 C) 4 D) 6 E) 12

44. – 46. soruları aşağıda verilen bilgilere göre cevaplandırınız.

Aşağıdaki tabloda 5 öğrencinin bir sınavın yazılı, spor ve mülakat bölümlerinden aldıkları puanlar gösterilmiştir.

Alınan Notlar			
İsim	Yazılı	Spor	Mülakat
Yılmaz	70	40	40
Mert	60	50	40
Demir	40	50	40
Zafer	40	60	90
Barış	30	40	60

Sınavda yazılının %50 si, sporun %40 ı mülakatın %10 u alınarak puan hesaplanacaktır. 50 ve üzeri puan alan öğrenciler başarılı sayılacaktır.

44. En başarılı öğrenci aşağıdakilerden hangisidir?

- A) Yılmaz B) Mert C) Demir
D) Zafer E) Barış

45. Sınavı kazanamayan öğrenciler kimlerdir?

- A) Yılmaz – Barış B) Demir – Zafer
C) Mert – Barış D) Yılmaz – Demir
E) Demir - Barış

46. Sınavda başarılı olan öğrencilerin not ortalaması kaçtır?

- A) 51 B) 52 C) 53 D) 54 E) 55

47. A: {a,h,m,e,t} kümesi üzerinde “ * ”

*	a	h	m	e	t
a	e	t	a	h	m
h	t	a	h	m	e
m	a	h	m	e	t
e	h	m	e	t	a
t	m	e	t	a	h

Buna göre, $(a^3 * m^2)^{-1} * (t^{-1} * e^2)$ işleminin sonucu aşağıdakilerden hangisine eşittir?

$$\left(\begin{array}{l} x^{-1}:x \text{ in işlemine göre tersi} \\ x^n = \underbrace{x * x * \dots * x}_{n \text{ tane}} \text{ şeklinde tanımlanıyor.} \end{array} \right)$$

A) a B) h C) m D) e E) t

48. Bir araba yarışında Ford'un yarışı kazanma olasılığı $\frac{1}{4}$, Opel'in yarışı kazanma olasılığı $\frac{1}{3}$ olduğuna göre, yarışı Ford'un veya Opel'in kazanma ihtimali kaçtır?

A) $\frac{1}{2}$ B) $\frac{1}{5}$ C) $\frac{5}{8}$ D) $\frac{7}{12}$ E) $\frac{11}{12}$

49. Bir işi A, B, C şahısları tek başına sırasıyla 12, 36 ve 72 günde bitirebilmektedir. Üçü işe başladıktan üç gün sonra C şahsı işten ayrılıyor. 3 gün geçtikten sonra da B şahsı işten ayrılıyor.

Buna göre, kalan işi A şahsı tek başına kaç günde bitirir?

A) $\frac{3}{2}$ B) 2 C) $\frac{5}{28}$ D) 3 E) $\frac{7}{2}$

50. Bir miktar paranın $\frac{1}{4}$ ü ile kitap, $\frac{1}{5}$ i ile defter, geriye kalanlarıyla da 5 kalem alınmıştır.

Kalemlerin fiyatı eşit olduğuna göre, 1 kalem için ödenen para toplam paranın yüzde kaçdır?

A) 9 B) 10 C) 11 D) 12 E) 22

51. Bir kültürdeki bakteri sayısı her bir saatlik süre sonunda üç katına çıkmaktadır.

Başlangıçta 243 tane bakterinin bulunduğu bu kültürde 20 saatin sonunda kaç bakteri olur?

A) 3^{20} B) 3^{22} C) 3^{25} D) 3^{27} E) 3^{30}

52. x ve y reel sayı olmak üzere,

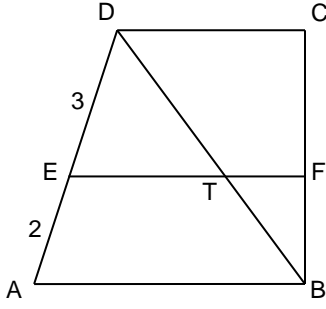
$$-4 \leq x < 2$$

$$-3 < y \leq 4$$

olduğuna göre, $(x^2 - y^2)$ nin alabileceği kaç farklı tamsayı değeri vardır?

A) 29 B) 30 C) 31 D) 32 E) 33

53.



ABD ve BDC birer üçgendir.

DC//EF//AB

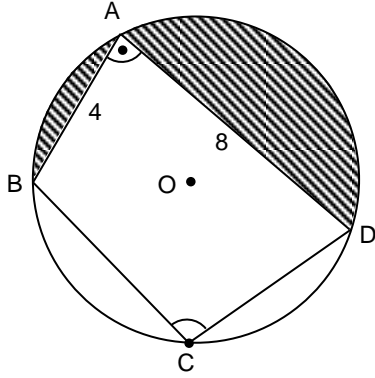
|DE| = 3 birim

|EA| = 2 birim

Yukarıdaki verilere göre, $\frac{|TF|}{|DC|}$ oranı kaçtır?

- A) $\frac{1}{3}$ B) $\frac{2}{3}$ C) $\frac{1}{5}$ D) $\frac{2}{5}$ E) $\frac{3}{5}$

54.



O merkezli çember

 $m(\widehat{BAD}) = m(\widehat{BCD})$

|AB| = 4 birim

|AD| = 8 birim

Yukarıdaki verilere göre, taralı bölgenin alanı kaç cm^2 dir?

- A) $13\pi - 8$ B) $13\pi - 16$ C) $12\pi - 8$
D) $12\pi - 16$ E) $10\pi - 16$

55. Bir manav 8 limon aldığı fiyata 5 limon satmaktadır.

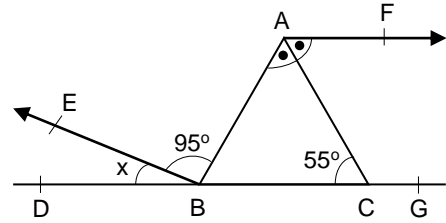
Buna göre, manavın bu satışta karı yüzde kaçtır?

- A) 40 B) 45 C) 50 D) 55 E) 60

56. 813 sayısına en az kaç eklenmelidir ki 5, 6 ve 7 ile bölündüğünde her seferinde 2 kalanını versin?

- A) 29 B) 31 C) 33 D) 35 E) 37

57.



AF//DG

 $m(\widehat{BAC}) = m(\widehat{CAF})$ $m(\widehat{ABE}) = 95^\circ$ $m(\widehat{ACB}) = 55^\circ$ $m(\widehat{EBD}) = x$

Yukarıdaki verilere göre x kaç derecedir?

- A) 10 B) 15 C) 20 D) 25 E) 30

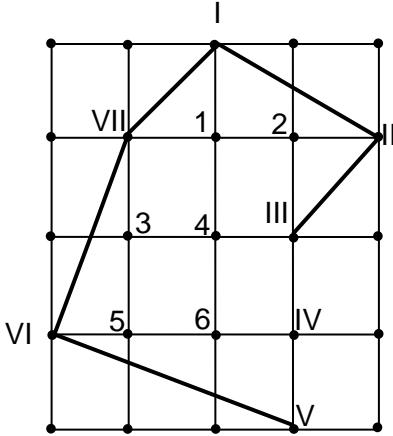
58. – 60. soruları aşağıda verilen bilgilere göre cevaplandırınız.

1 birim aralıklarla şekildeki gibi kareler halinde noktalanmış bir kağıt üzerine, köşeleri bu noktalar gelecek biçimde çokgenler çiziliyor. Oluşan çokgensel bölge-lerin alanı Pick teoremine göre,

i, çokgenin içindeki nokta sayısı ve
s, çokgenin sınırlarındaki nokta sayısı olmak üzere,

Alan = $i + \frac{s}{2} - 1$ biçiminde hesaplanıyor.

ÖRNEK:



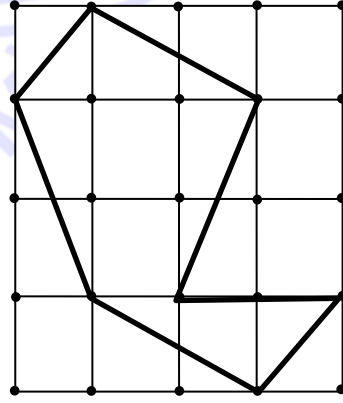
Yukarıdaki çokgenin içinde 6 tane, sınırlarında ise 7 tane nokta vardır. O halde, çokgensel bölgenin alanı;

$$6 + \frac{7}{2} - 1 = 8,5 \text{ birimkaredir.}$$

58. Aşağıdakilerden hangisi bu yöntemle çizilmiş bir çokgensel bölgenin birimkarecinsinden alanı ola-
maz?

- A) 1 B) 2 C) $\frac{1}{2}$ D) $\frac{3}{2}$ E) $\frac{4}{3}$

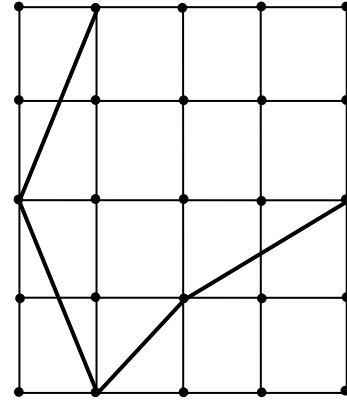
59.



Yukarıdaki çokgensel bölgenin alanı kaç birimkaredir?

- A) 6 B) 6,5 C) 7 D) 7,5 E) 8

60.



Yukarıda dört kenarı verilen şekli bir altıgene tamamlanıyor.

Bu altıgensel bölgenin alanı en az kaç birimkare olabilir?

- A) 3 B) 3,5 C) 4 D) 4,5 E) 5

GENEL YETENEK TESTİ BİTTİ.

GENEL KÜLTÜR TESTİNE GEÇİNİZ.

1. Orta Asya Türkleri'nin savaşçılık yeteneklerinin gelişmesine,

- I. Topraklarının doğal sınırlarla korunmamış olması,
- II. Coğrafi koşullar nedeniyle, göçebe yaşamı benimsemeleri,
- III. Dış tehlikelerle karşı karşıya gelmeleri

durumlarından hangilerinin neden olduğu söylenebilir?

- A) Yalnız I B) Yalnız II C) I ve II
D) II ve III E) I, II ve III

2. Doğu Türkistan'da kurulmuş olan Karahanlı Devleti için;

- I. Yazıda Uygur Alfabesi'ni kullanmışlardır.
- II. Devlet, konuşma ve edebiyat dili Hakaniye Lehçesi'dir.
- III. Semerkant, Taşkent, Kaşgar, Buhara şehirleri önemli bilim ve kültür merkezi haline gelmiştir.

yukarıdaki özelliklerden hangileri söylenebilir?

- A) Yalnız I B) Yalnız II C) I ve II
D) II ve III E) I, II ve III

3. Anadolu Selçuklu Devleti'nde, ticareti geliştirmek için alınan önlemler arasında aşağıdakilerden hangisi gösterilemez?

- A) Ticari amaçlı askeri faaliyetlerle, liman şehirlerinin alınması
B) Haçlılarla mücadele edilmesi
C) Ticari iskan politikasının uygulanması
D) Ahi Teşkilatı'nın kurulması
E) Tüccara ilk kez devlet sigortasının yapılması

4. Osmanlı Devleti'nde görülen;

- I. Devşirme Sistemi'nin uygulanması,
- II. Enderun Mektebi'nin açılması,
- III. Anadolu Hisarı'nın yapılması

gelişmelerden hangileri teşkilatlanmanın göstergesi sayılabilir?

- A) Yalnız II B) I ve II C) Yalnız III
D) II ve III E) I, II ve III

5. Fatih Sultan Mehmet'in yaptığı Kanunname-i Al-i Osman ile;

- I. Müsadere Sistemi
- II. Sancak Sistemi
- III. Kardeş Katli
- IV. Divan'ın sadrazam başkanlığında toplanması

durumlarından hangilerinin yasallaştığı söylenebilir?

- A) I ve II B) II ve III C) III ve IV
D) I, II ve III E) II, III ve IV

6.

- I. Rönesans
- II. Sanayi İnkılabı
- III. Coğrafi Keşifler
- IV. Reform

Osmanlı Devleti'ni, ekonomik olarak etkileyen Avrupa'daki gelişmeler arasında yukarıdakilerden hangileri gösterilebilir?

- A) I ve II B) II ve III C) I, II ve III
D) II, III, IV E) I, II, III ve IV

7. Aşağıdakilerden hangisi Osmanlı Devleti'nin Tanzimat Dönemi'nde açılan, Batı tarzı eğitim kurumlarından biri değildir?

- A) Mekteb-i Sultani
- B) Dar'ül Fünun
- C) Mekteb-i Mülkiye
- D) Dar'üşşafaka
- E) Rüştiye

8. Aşağıdakilerden hangisinin III. Selim tarafından yapıldığı söylenemez?

- A) Eğitim dili askeri teknik okullarda Fransızca olmuştur.
- B) Devletin sorunlarını çözmek için Meşveret Meclisi oluşturulmuştur.
- C) İlk kez Batı tarzı ıslahatlar yapılmaya başlanmıştır.
- D) İlk kez planlı, programlı, radikal ıslahatlar yapılmaya çalışılmıştır.
- E) Batı tarzı Nizam-ı Cedit adında yeni bir ordu kurulmuştur.

9. Osmanlı Devleti, I. Meşrutiyet'i ilan etmekle, aşağıdakilerden hangisini gerçekleştirmeyi amaçlamıştır?

- A) Azınlık İsyanlarının önüne geçmek
- B) Toprak bütünlüğünü korumak
- C) Ülkede birlik ve beraberliği sağlamak
- D) Halkı yönetime ortak etmek
- E) Kaybedilen toprakları geri almak

10. 31 Mart Olayı'nda;

- I. Ahrar Fırkası
- II. Volkan Gazetesi
- III. 4. Avcı Taburu
- IV. Serbesti Gazetesi

yukarıdakilerden hangilerinin etkili olduğu söylenbilir?

- A) I ve II
- B) II ve III
- C) I, II ve III
- D) II, III, IV
- E) I, II, III ve IV

11. Osmanlı Devleti Avrupa'da oluşacak bir Haçlı İttifakını önlemek için;

- I. Venedik'e ticari ayrıcalıklar verilmesi,
- II. Fransa ile kapitülasyon yapılması
- III. Anadolu'da siyasi birliğin sağlanması

politikalarından hangilerini uygulamıştır?

- A) Yalnız I
- B) Yalnız II
- C) Yalnız III
- D) I ve II
- E) II ve III

12. Osmanlı Devleti zaman içerisinde Türk-Müslüman vezirlerin sayısını azaltırken, devşirme vezirlerin sayısını artırmıştır.

Bu uygulamadaki temel amaç;

- I. Merkezi devlet otoritesinin olabilecek iktidar mücadelelerinden korunmak istenmesi,
- II. Enderun Mektebi'nden yalnızca devşirme kökenlilerin çıkması,
- III. Güçlü ve yetenekli Türk-Müslüman vezirlerin yetişmemesi

yukarıdakilerden hangileridir?

- A) Yalnız I
- B) Yalnız II
- C) I ve II
- D) II ve III
- E) I ve III

- 13.
- Gizli Karakol
 - Vahdet-i Milliye
 - Teal-i İslam
- Yukarıdaki cemiyetlerden hangileri Milli Mücadele'ye karşı çalışmıştır?**
- A) Yalnız I B) Yalnız II C) Yalnız III
D) I ve II E) II ve III
14. **Mustafa Kemal Paşa yayınladığı Havza Genelgesi'nde, işgallere karşı tepki gösterilirken Hristiyan halka saldırıda bulunulmamasına özen gösterilmesini istemiştir.**
- M. Kemal' in bu isteğinin;**
- Yeni işgallere zemin hazırlamamak,
 - Türklerin, Hristiyanları katlettikleri iddialarını güçlendirmemek,
 - İstanbul Hükümeti'nin Anadolu'daki direnişe destek vermesini sağlamak,
- amaçlarından hangilerine yönelik olduğu savunulabilir?**
- A) Yalnız I B) Yalnız II C) Yalnız III
D) I ve II E) I, II ve III
15. **Amasya Genelgesi'nin,**
- Vatanın bütünlüğü, milletin bağımsızlığı tehlikededir.
 - İstanbul Hükümeti, İtilaf Devletleri'nin etkisi altında bulunduğundan görevini yerine getirememektedir.
 - Milletin bağımsızlığını yine milletin azmi ve kararı kurtaracaktır.
- yukarıdaki kararlarından hangileri Kurtuluş Savaşı'mızın gerekçesini belirtir?**
- A) Yalnız I B) Yalnız II C) Yalnız III
D) I ve II E) I, II ve III
16. **Aşağıdaki savaşlardan hangisinin Fransızlar'a karşı yapıldığı söylenebilir?**
- Pozantı Savaşı
 - Gediz Muharebesi
 - Aslıhanlar Savaşı
 - Dumlupınar Savaşı
 - Başkomutanlık Meydan Savaşı
17. **Aşağıdaki antlaşmalardan hangisi, Misak-ı Milli'den taviz verilmeden imzalanmıştır?**
- Mudanya Ateşkes Antlaşması
 - 1926 Ankara Antlaşması
 - Moskova Antlaşması
 - Kars Antlaşması
 - Lozan Barış Antlaşması
- 18.
- Haliç Konferansı
 - Nasturi Ayaklanması
 - Şeyh Sait Ayaklanması
 - Milletler Cemiyeti
- Yukarıdakilerden hangileri Musul Sorunu ile ilgilidir?**
- A) II ve III B) I, II, III C) I, II, IV
D) II, III, IV E) I, II, III, IV
19. **Montrö Boğazlar Sözleşmesi'nin sonuçları değerlendirildiğinde;**
- Boğazlarda tam egemenlik ve tam bağımsızlık sağlanmıştır.
 - Türkiye'nin Doğu Akdeniz'de stratejik önemi artmıştır.
 - Türkiye-SSCB ilişkilerinin gelişmesini sağlamıştır.
- yargılarından hangilerine ulaşılabilir?**
- A) Yalnız I B) I ve II C) I ve III
D) II ve III E) I, II ve III

20. Atatürkçü Düşünce Sistemi'nde uygulamaya giren ilk ilke aşağıdakilerden hangisidir?

- A) Milliyetçilik
- B) Cumhuriyetçilik
- C) Laiklik
- D) Halkçılık
- E) Devletçilik

21.

- I. Üniversite Kitapları
- II. Mardin Ekspres Gazetesi
- III. Pullar
- IV. Le Pays-Önce Vatan Gazetesi

1928'deki Latin Alfabesi'nin kabulünden önce, yeni harfler yukarıdakilerin hangilerinde kullanılmıştır?

- A) I ve II
- B) II ve III
- C) I, II ve III
- D) II ve IV
- E) II, III ve IV

22. Tanzimat Dönemi'nde hukuk alanında yapılan yeniliklerin olumlu sonuçları, Cumhuriyet Dönemi'ndeki çalışmalara da etki etmiştir.

Bu bilgiye göre;

- I. Dinsel hukuk kuralları dışında, yeni çağdaş hukuk kuralları kabul edilmiştir.
- II. Avrupa hukuk kuralları tanınmıştır.
- III. İyi yetişmiş yeni bir hukukçu kuşağı oluşmuştur.

yukarıdaki yargılardan hangilerine ulaşılabilir?

- A) Yalnız I
- B) I ve II
- C) Yalnız III
- D) I ve III
- E) I, II ve III

23. Aşağıdaki gelişmelerden hangisi Atatürk Dönemi'nden sonra olmuştur?

- A) Demiryolu yapımının yerini karayolunun alması
- B) Reji İdaresi'nin millileştirilmesi
- C) Modern anlamda ilk nüfus sayımının yapılması
- D) Haydarpaşa Limanı'nın devletleştirilmesi
- E) Çubuk Barajı'nın yapılması

24.

- I. Yalta
- II. Postdam
- III. San Fransisko

Yukarıdaki konferansların hangilerinde, Boğazlar konusu görüşülmüş ancak kesin bir karar alınmamıştır?

- A) Yalnız I
- B) Yalnız II
- C) Yalnız III
- D) I ve II
- E) II ve III

25. Basmacı Hareketi sonunda, Batı Türkistan'da SSCB'ye bağlı kurulan Cumhuriyetler arasında aşağıdakilerden hangisi yer almaz?

- A) Kazakistan
- B) Türkmenistan
- C) Kırgızistan
- D) Özbekistan
- E) Afganistan

26. Avrupa merkezli uluslararası sistemin sona erdiği ve ABD'nin dünyadaki konumunun güçlendiği gelişmeler arasında;

- I. II. Dünya Savaşı'ndan en az etkilenen devlet olması,
- II. Birleşmiş Milletler'in New York'u merkez olarak seçmesi,
- III. Uluslararası Para Fonu'nun (IMF) Washington merkezli kurulması

yukarıdakilerden hangilerinin etkili olduğu savunulabilir?

- A) Yalnız I B) Yalnız II C) I ve II
D) II ve III E) I, II ve III

27. Orta Doğu'da yaşanan sorunlar arasında;

- I. Su kaynaklarının kullanımı,
- II. İsrail-Filistin arasındaki toprak paylaşımının sorunları büyütmesi,
- III. Arap ülkeleri arasındaki demokratikleşme isteklerinin artması

gelişmelerinden hangileri gösterilebilir?

- A) Yalnız I B) Yalnız II C) I ve II
D) II ve III E) I, II ve III

28. Türkiye'de genç kıvrım dağlarının geniş alan kaplaması; aşağıdakilerden hangisiyle açıklanabilir?

- A) Alp-Himalaya dağ sisteminde yer almasıyla
B) Volkanizma olaylarından etkilenmesiyle
C) Ülkenin yarımada üzerinde bulunmasıyla
D) Geniş tortulanma alanlarına sahip olmasıyla
E) Depremlerin sıklıkla oluşmasıyla

29.

- Üç tarafının denizlerle çevrili olması
- Batıdan doğuya doğru yükseltilsinin artması
- Kıyı kesimlerinin, iç kesimlerinden fazla yağış alması

Yukarıda verilen özellikler Türkiye ile ilgili aşağıdaki yargılardan hangisini desteklemez?

- A) Türkiye'nin özel konumunun iklime etki ettiğini
B) Türkiye'nin orta kuşakta yer alan bir ülke olduğunu
C) Türkiye'de farklı iklim tipilerinin bulunduğunu
D) Türkiye'nin yer şekillerinin iklimi etkilediğini
E) Türkiye'de denize yakın ve uzak yerlerde farklı iklim koşullarının görüldüğünü

30. Türkiye'nin;

- I. Doğu Yarımküre'de yer alması
- II. Orta Kuşak'ta bulunması
- III. Doğu – batı yönünde geniş olması
- IV. İki yarımada üzerinde bulunması

özelliklerinden hangisi, enlemin etkisi ile açıklanabilir?

- A) Yalnız I B) Yalnız II C) I ve II
D) III ve IV E) I, II ve III

31.

- I. Heyelân sonucunda akarsuyun ağız kısmının kapanmasıyla oluşan
- II. Kıyıda dalga ve akıntıların biriktirmesiyle oluşan
- III. Akarsuların taşıdığı alüvyonların biriktirmesiyle oluşan

Yukarıda oluşumları belirtilen göllere aşağıdakilerden hangisinde doğru örnek verilmiştir?

	I	II	III
A)	Bafa	Küçükçekmece	Ulubat
B)	Eğridir	Van	Nemrut
C)	Terkoz	Manyas	İznik
D)	Beyşehir	Çıldır	Sapanca
E)	Sera	Büyükçekmece	Eymir

32. Anadolu'nun önemli bir jeopolitik konuma sahip olmasından dolayı geçmişten günümüze kadar çok çeşitli uygarlıklara ev sahipliği yaptığı görülmektedir.

Türkiye'nin jeopolitik konumunun geçmişten günümüze önem taşımasında aşağıdakilerden hangisinin daha az etkili olduğu söylenir?

- A) Önemli ticaret yolları üzerinde bulunması
- B) Boğazlara sahip olması
- C) Bitki örtüsünün çeşitlilik göstermesi
- D) Önemli yeraltı kaynaklarına sahip olması
- E) Ortadoğu, Balkanlar ve Kafkasya arasında yer alması

33. Dağ çayırlarının İç Anadolu'da seyrek ve kısa iken, Kuzeydoğu Anadolu'da gür ve uzun olması aşağıdakilerden hangisi etkili olmamıştır?

- A) Doğal bitki örtüsünün genelde orman olması
- B) Yükseltinin fazla olması
- C) Yaz mevsiminin serin ve yağışlı geçmesi
- D) Buharlaşma miktarının az olması
- E) Yıllık yağış miktarının fazla olması

34. Kayaların mekanik çözülmesiyle toprak oluşabilen bölgelerin ortak özelliği aşağıdakilerden hangisidir?

- A) Doğal bitki örtüsünün gürlüğü
- B) Sıcaklık farkının fazlalığı
- C) Nem ve yağış miktarının fazlalığı
- D) Volkanik kayaların bulunması
- E) Topraklarının humus bakımından zengin olması

35. Türkiye bitki türü ve çeşitliliği bakımından Dünya'nın en engin ülkelerinden biridir.

Türkiye'nin aynı kuşakta bulunduğu ülkelere oranla daha fazla endemik bitki türüne sahip olmasında aşağıdakilerden hangisinin etkili olduğu söylenebilir?

- A) Orman varlığının büyük bir hızla artması
- B) Yüzölçümünün geniş olması
- C) Yıllık ortalama sıcaklığının daha fazla olması
- D) Toprak türü çeşitliliğinin azlığı
- E) Yer şekillerinin ortaya çıkardığı özel koşullar

36. Ülkeler arasındaki gelişmişlik düzeyini belirleyen ölçütler arasında;

- I. kişi başına düşen milli gelir,
- II. km² 'ye düşen insan sayısı,
- III. ihracatın ithalatı karşılama oranı,
- IV. okur-yazar oranı

gibi durumlardan hangileri gösterilemez?

- A) Yalnız II
- B) Yalnız III
- C) I ve III
- D) I ve IV
- E) I, III ve IV

37. Bir doğal kaynağın sürdürülebilir olmasının temel koşulu o kaynağın yenilenebilir olmasıdır.

Buna göre;

- I. doğalgaz,
- II. hidroelektrik,
- III. jeotermal kaynaklar,
- IV. petrol

gibi enerji kaynaklarından hangilerinin kullanılması sürdürülebilir olmayı sağlar?

- A) I ve II
- B) I ve III
- C) II ve III
- D) II ve IV
- E) III ve IV

38. Güneş enerjisinden yararlanma oranı bulutlu gün sayısı ile ters orantılıdır.



Buna göre, haritada numaralandırılarak gösterilen illerden hangisinde güneş enerjisinden yararlanma oranı daha azdır?

- A) I B) II C) III D) IV E) V

39.



Haritadaki oklar yönünde kentleri birbirine bağlayan karayollarının yapımında, kilometre başına düşen yol yapım maliyeti hangisinde en azdır?

- A) Samsun - Ankara
B) Antalya - İzmir
C) Adana - Kayseri
D) Erzurum - Trabzon
E) Mardin - Van

40. Ağaçlandırma çalışmalarının planlandığı bir bölgede;

- I. iklim özellikleri,
II. maden kaynakları,
III. jeolojik yapı,
IV. sulama durumu

gibi özelliklerinden hangilerinin öncelikle belirlenmesi gerekir?

- A) I ve IV B) I ve II C) II ve III
D) II ve IV E) III ve IV

41.



Haritada numaralarla gösterilen merkezlerin hangilerine demiryoluyla ulaşamaz?

- A) I ve II B) I ve III C) II ve III
D) II ve IV E) IV ve V

42. Aşağıdaki bazı limanlar ile bunların gelişmelerin de etkili olan hinterlandları verilmiştir.

Bunlardan hangisi yanlıştır?

- A) Trabzon - Zigana geçidi ve İran transit yolu
B) Mersin - Çukurova ve Güneydoğu Anadolu
C) Samsun - Kop geçidi ve Doğu Anadolu
D) İzmir - Ege Bölgesi, Göller yöresi
E) İstanbul - Tüm Türkiye

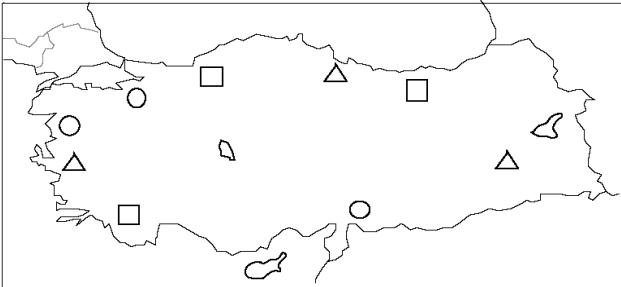
43. Türkiye'de ilk nüfus sayımı yapılan 1927 yılı ile 2007 yılındaki adrese dayalı nüfus sayımı arasındaki dönemle ilgili,

- I. Nüfus artış hızı sürekli artmıştır.
- II. Kırsal nüfus oranı, kentsel nüfustan sürekli daha fazla olmuştur.
- III. Kadın nüfusu, sürekli erkek nüfustan az olmuştur.
- IV. Toplam nüfus sürekli artmıştır.

yargılarından hangilerine ulaşılabilir?

- A) Yalnız IV B) II ve IV C) I ve IV
D) II ve III E) I ve III

44. Aşağıdaki haritada, □ , Δ , ○ işaretleri bazı zeytinyağı, kağıt ve sigara fabrikalarının yerlerini göstermektedir.



Bu işaretlerin hangi fabrikalara ait olduğu aşağıdakilerin hangisinde doğru olarak verilmiştir?

- | | □ | Δ | ○ |
|----|------------|------------|------------|
| A) | Zeytinyağı | Kağıt | Sigara |
| B) | Sigara | Kağıt | Zeytinyağı |
| C) | Zeytinyağı | Sigara | Kağıt |
| D) | Kağıt | Zeytinyağı | Sigara |
| E) | Kağıt | Sigara | Zeytinyağı |

45. Ekonomik açıdan yeterince gelişmemiş ancak kalkınma potansiyeline sahip bölgelerin gelişebilmesi için hazırlanmış, 1950'li yılların sonlarından itibaren fizibilite çalışmaları tamamlanmış aşağıdaki bölgesel kalkınma projelerinden hangisinin uygulama alanı en geniştir?

- A) GAP B) Yeşilirmak – HGP C) DAP
D) DOKAP E) ZBK

46. Aşağıdakilerden hangisi özel hukuk dallarından birisi olarak kabul edilir?

- A) İdare Hukuku
B) Anayasa Hukuku
C) Devletler(Genel) Hukuku
D) Medeni Hukuk
E) İş Hukuku

47. Din olgusu gözetilmeden tüm uyruklara eşit davranılacağına benimsendiği anayasal düzenleme hangisidir?

- A) Sened-i İttifak
B) Tanzimat Fermanı
C) Islahat Fermanı
D) Kanun-ı Esasi
E) Teşkilat-ı Esasiye

48. 1982 Anayasasının siyasi partilere getirildiği yasaklardan sayılmayacak seçenek aşağıdakilerden hangisidir?

- A) Devletten yardım almak
- B) Yabancı devletlerden yardım almak
- C) Uluslararası kuruluşlardan yardım almak
- D) Ticari faaliyette bulunmak
- E) T.C. uyuğunda olmayan tüzel kişilerden yardım almak

49. Ara seçimlerle ilgili olarak aşağıdaki seçeneklerden hangisi yanlıştır?

- A) Genel seçimler üzerinden 30 ay geçmedikçe ara seçim yapılamaz.
- B) Genel seçime 8 ay kala ara seçime gidilemez.
- C) TBMM üye tam sayısında % 5 boşalma olması halinde ara seçime gidilir.
- D) Bir ili ya da seçim çevresini temsil eden hiçbir milletvekili kalmaz ise ara seçim yapılır
- E) Seçimlerden sonra 45 gün içinde hükümet kurulamazsa, kurulan hükümet güvenoyu alamazsa Cumhurbaşkanı TBMM Başkanı'na danışarak ara seçimlere gidilmesine karar verebilir.

50. 1982 Anayasasının seçmenlerle ilgili yapmış olduğu düzenlemelere göre aşağıdakilerden hangisi oy kullanabilir?

- A) Silah altındaki er ve erbaşlar
- B) Hükümlüler
- C) Tutuklular
- D) Askeri Okul öğrencileri
- E) 18 yaşını doldurmayanlar

51. 1982 Anayasasının düzenlemesine göre aşağıdakilerden hangisi yasamanın (TBMM) yürütmeyi (Bakanlar Kurulu) denetleme yollarından birisi değildir?

- A) Meclis Soruşturması
- B) Meclis Araştırması
- C) Soru
- D) Genel Soru
- E) Gensoru

52. Meclisi tatilde veya ara verme sırasında aşağıdakilerden hangisi toplantıya çağırma yetkili değildir?

- A) Bakanlar Kurulu
- B) Cumhurbaşkanı
- C) Meclis Başkanı
- D) 110 Milletvekili
- E) Başbakan

53. Aşağıdakilerden hangisinin Milli Güvenlik Kurulunda oy kullanma hakkı yoktur?

- A) Cumhurbaşkanı
- B) Başbakan
- C) Milli Güvenlik Kurulu Genel Sekteri
- D) Milli Savunma Bakanı
- E) Jandarma Genel Komutanı

54. Aşağıdakilerden hangisi, Cumhurbaşkanı başkanlığında toplanan Bakanlar Kurulu tarafından ilan edilecek olan olağanüstü hal nedenlerinden birisi değildir?

- A) Savaş Hali
- B) Doğal Afet
- C) Tehlikeli salgın hastalık
- D) Ağır ekonomik kriz
- E) Şiddet olaylarının yaygınlaşması

55. Hakkında soruşturma açılan bir belediye başkanının soruşturma sonuçlandırılmaya kadar kim geçici olarak görevden alır?

- A) İçişleri bakanı
- B) Başbakan
- C) Dışişleri Bakanı
- D) Meclis Başkanı
- E) Danıştay

56. Yakın zamanda sonuçlanması beklenen ve gerçekleştiği takdirde AB'nin bir G-7 ülkesi ile imzalayacağı ilk ticaret anlaşması olacak olan anlaşma, AB ile aşağıdaki G7 ülkelerinden hangisi arasında akdedilecektir?

- A) ABD
- B) Japonya
- C) Kanada
- D) Birleşik Krallık
- E) Rusya

57. Aşağıdaki şehirlerden hangisi, UNESCO tarafından 2013 yılının Somut Olmayan Kültürel Miras Başkenti seçilmiştir?

- A) Şanlıurfa
- B) İzmir
- C) Gaziantep
- D) Eskişehir
- E) Ağrı

58. Şubat 2013'te düzenlenen Berlin Film Festivali'nde, Köken Ergün'ün hangi filmi, Alman Yabancı Akademisyen Değişim Programı Kısa Metrajlı Film dalında ödül kazanmıştır?

- A) Dondurmam Gaymak
- B) Pilav
- C) Aşure
- D) Çocuk
- E) Çayır

59. Kadınların eğitim özgürlüğü ve haklarının savunucusu olarak tanınıp Pakistan hükümetince de 2011 yılında Ulusal Barış Ödülüne layık görülen; ancak 9 Ekim 2012'de Taliban militanları tarafından silahlı saldırı sonucu ağır yaralanan aktivist aşağıdakilerden hangisidir?

- A) Muhammed Ali Cinnah
- B) Veena Malik
- C) Ebul Ala Mevdudi
- D) Malala Yusufzay
- E) Pervez Aşraf

60. Avrupa Nükleer Araştırma Merkezi'nde (CERN) 14 Mart 2013'te kesin olarak bulunduğu belirtilen ve parçacıklara kütlelerini verdiği düşünülen, yaygın olarak da "Tanrı parçacığı" olarak nitelendirilen bozonun adı aşağıdakilerden hangisidir?

- A) Higgs bozonu
- B) Hadron bozonu
- C) Brout bozonu
- D) Hagen bozonu
- E) Sigma bozonu

TEST BİTTİ.

CEVAPLARINIZI KONTROL EDİNİZ.