

YÖRÜNGE AKADEMİ

KPSS

2014

GENEL YETENEK
GENEL KÜLTÜR

LİSANS
DENEME SINAVI

1



yorungeakademi.com.tr

YENİ SINAV
FORMATINA
UYGUN

DİKKAT

1. Genel Yetenek Genel Kültür Testi, Genel Yetenek (1-14) ve Genel Kültür (15-25) testlerinden oluşmaktadır. Her testte **60 soru** bulunmaktadır.
2. Genel Yetenek Genel Kültür Testi için verilen **toplam** cevaplama süresi **120 dakikadır (2 saat)**.
3. Cevaplamaya istediğiniz testten ve sorudan başlayabilirsiniz. Her soru ile ilgili cevabınızı, cevap kâğıdında o soru için ayrılmış olan yere işaretlemeyi unutmayınız.
4. Testler puanlanırken her testteki doğru cevaplarınızın sayısından yanlış cevaplarınızın sayısının dörtte biri düşülecek ve kalan sayı o testle ilgili ham puanınız olacaktır. Bu nedenle hakkında hiçbir fikrinizin olmadığı soruları boş bırakınız. Ancak, soruda verilen seçeneklerden birkaçını eleyebiliyorsanız kalanlar arasından doğru cevabı kestirmeye çalışmanız yararınıza olabilir.

1. Fethi Naci, eleştirilerinde mümkün oldukça çıplak bir gözle bakıyor ele aldığı kitaba. Mümkün oldukça diyorum; çünkü hiçbir eleştirmen kendi kişiliğinin, birikiminin siyasi düşüncesinin, hayata bakışının görünmeyen gözlüklerinden bütünüyle kurtulamaz.

Yukarıda verilen parçadaki “çıplak bir göz” sözü ile anlatılmak istenen aşağıdakilerden hangisidir?

- A) Ayrıntıları göz ardı eden eleştiri anlayışı.
- B) Toplumsal faydayı düşünen bakış açısı.
- C) Gözleme önem veren eleştiri anlayışı.
- D) Çözümleyici bir inceleme anlayışı.
- E) Nesnel bir eleştiri anlayışı.

2. ...Bu dönemde hece ölçüsüne duyulan ilgi biraz artmış ama aruz eski egemenliğini sürdürmüştür. Sanatçılarımız beyit birimini divan manzumlarını ve söz sanatlarını kullanmaya devam etmişlerdir. Bunun içindir ki Tanzimat şiirinde bütünüyle bir yenilikten söz etmek mümkün değildir. Ancak sosyal konuların şiire girmesi bu dönemin en önemli yeniliğidir.

Düşüncenin akışına göre bu parçanın ilk cümlesi aşağıdakilerden hangisidir?

- A) Divan şiirleri Tanzimat şairlerinin üzerinde etkili olmuştur.
- B) Tanzimat şiiri hem şiirde hem nesirde yeniliğin sembolü olmuştur.
- C) Tanzimat şairleri modern edebiyatımızın doğmasında önemli rol oynamışlardır.
- D) Tanzimat şiiri, Divan şiirinin teknik özelliklerine bağlı kalmıştır.
- E) Divan şiiri, Tanzimat şiirinden önemli ölçüde etkilenmiştir.

3. Sanatın, zaman zaman bilimle mukayese edildiğini görüyoruz. Esasen sanat ve bilim aynı amaca hizmet eden iki farklı olgudur. Hizmet alanları insandır. Ancak sanatçı, kafasındaki soyut kavramları somutlaştırarak sanat eserini oluşturur. Bilim adamı ise kafasındaki şüpheleri ve meraklarını gidermek için somut varlıkların niteliklerini araştırır. Sonuçta sanat eseri bir yenilik olarak ortaya çıkarken bilim, yenilikleri incelemekle meşgul olur.

Bu parçada vurgulanan düşünce aşağıdakilerden hangisidir?

- A) Sanat bir yaratıdır. Bilim ise var olanın niteliklerini araştırır.
- B) Sanatın bazı yönleriyle bilimden daha üstün olduğuna inanılmaktadır.
- C) Sanat, soyut hayallerin somut bir şekilde ifadesidir.
- D) Sanatçı ün kazanmak için, bilim adamı ölümsüzlüğe ulaşmak için çalışır.
- E) Bilimsel buluşlar sanat eserlerinden daha eskiye dayanır.

4. Yetenekli ama kırılğan ruhların işgal ettiği edebiyat dünyasında üretilen her yapıt, farklı bir eleştirel yaklaşım gerektiriyor.

Bu cümledeki “yetenekli ama kırılğan” sözüyle anlatılmak istenen, aşağıdakilerden hangisidir?

- A) Becerikli; ama kendisini beğenmiş sanatçılar.
- B) Yapıtları sanat değeri taşımayan edebiyatçılar.
- C) Öykünmenin ötesine geçemeyen yazarlar.
- D) Birikimlerini kullanmakta yetersiz kalan şairler.
- E) Hassas kişilikli, sanat becerisi yüksek kişiler.

5. İnsanın olaylara, çevresine, kişilere bakış açısı yaşlandıkça değişir. Çocukken kendisine önemli gelen şeyler zamanla önemini yitirir. Heyecan veren durumlar artık onu etkilemez olur. Bu yüzden yaşlı bir insanı gençliğindeki ya da çocukluğundaki gibi olmaya zorlamak yanlış olur. Herhangi bir olay karşısında bizim gösterdiğimiz davranışı yaşlılardan beklememiz anlamsızdır.

Bu parçada asıl vurgulanmak istenen düşünce aşağıdakilerden hangisidir?

- A) İnsan çevresinden çok şeyler öğrenir.
- B) İnsan yaşlandıkça geçmişini hatırlamakta güçlük çeker.
- C) Yaşlıların davranışları ve düşünceleri doğal karşılanmaktadır.
- D) Çocuklukta ve gençlikte öğretilenler bir insan için yeterli değildir.
- E) Bir durum karşısında her insandan aynı davranışı beklemek doğru olmaz.

6. “Soruları alır almaz çözmeye başladım.” cümlesindeki **altı çizili sözün cümleye kattığı anlam aşağıdakilerden hangisinde vardır?**

- A) O, olur olmaz şeylere burnunu sokardı.
- B) Bilir bilmez konuşup canımı sıkma!
- C) Bakar bakmaz işe yaramayacağını anladım.
- D) Sizi görünce gençliğimi hatırladım.
- E) Yerli yersiz hareketlerle bizi üzüyorsunuz.

7. Aşağıdaki dizelerin hangisinde insana ait bir özellik doğaya aktarılmıştır?

- A) Bir düş ki hiç eskimez
Hep cıvıl cıvıl kuş sesleri
- B) Pembe yalanlarını bekliyorum
Anamur iskelesinde üzgün.
- C) Kimse ağlatmasın seni
Kimse gülmesin seninle
- D) Eski nağmeleri mırıldandı yine
Taraçaların ortasında rüzgar
- E) Ben kafes sen sarmaşık
Dolan dolanabildiğin kadar

8. Bugün köyden büyük kente doğru bir nüfus hareketiyle karşı karşıyayız. Bu hareket içinde yer alan köylüleri iki ayrı küme içinde ele almak doğru olur: Yorganları, heybeleriyle kente gelen ve tek arzusu günlük ekmeğini kazanmak olan köylüler; bunun yanında varlıklı olup da büyük kentin nimetlerinden yararlanmak, daha iyi yaşamak için köyünü terk edenler.

Bu parçanın konusu, aşağıdakilerden hangisidir?

- A) Göç olayının yarattığı sorunlar
- B) Büyük kente göçün nedenleri
- C) Köylerdeki ekonomik dengesizlik
- D) Köylerdeki yaşam koşulları
- E) Büyük kentlerin çekiciliği

9. Sinemayla ilgili şu fıkraya anlatılır: Ramazanda, köye imamlık için gelen iki hocayı köylüler sınava çeker. “Şu duvara bir ‘öküz’ yazın! Derler. Özene bezene yazar biri. Ötekinin okuryazarlığı yoktur. O da bir öküz resmi çizer ve “Söyleyin köylüler” der, “Bunların hangisi öküzze benziyor?”

Bu parçada anlatılmak istenen, aşağıdakilerden hangisidir?

- A) Sinema, toplumun her kesimine hitap eder.
- B) Sinema, görsellik taşısa bile filmin senaryosu yazıya dayalıdır.
- C) Bir sanat dalı sayılan sinema, gücünü halktan alır.
- D) Komedi türü, sinemanın önemli bir bölümünü oluşturur.
- E) Sinemanın görsellik özelliği, ona güç kazandırmaktadır.

10. (I) 2000’li yıllara gelmiş olsak da insanlar, doğaüstü güçlere inanmaya devam ediyorlar. (II) Bunun içindir ki, mavinin, sarının, yeşilin ve beyazın duygularımızı sakinleştirdiğine inancımız nazar boncuklarına olan tutkumuz asırlar boyu devam ediyor. (III) Konuşmalarımızda nazar sözcüğünü sık sık kullanırız. (IV) “Nazar” bir kimseye ya da bir şeye gözlemlerimizle bakmaktır. (V) Kimi kişilerin bakışlarıyla başkalarına zarar verdiği inanılır. (VI) Bunun için de “nazar değmesin” sözünü, o kişinin kötü ve uğursuz bakışlarından korunması için söyleriz.

Bu parça iki paragrafa bölünmek istense ikinci paragraf hangi cümleyle başlar?

- A) II. B) III. C) IV. D) V. E) VI.

11. Ama “yapalım” derken, nesiller boyu tamir edilemeyecek “yıkma”ların içine girilmemelidir. Aksi takdirde, gelecek nesillerin lanet ve nefretine uğrar, hem de çok şeyleri kaybedebiliriz.

Bu parçanın başına aşağıdaki cümlelerin hangisi eklenirse parça en uygun şekilde tamamlanmış olur?

- A) Hep yenilik peşinde olmak yenilikler yapmak gerek.
- B) Kısır döngüye giren insanın artık ondan kurtulması zordur.
- C) Tepki hareketlerinin tarih boyunca bir işe yaradığını ve sonuca ulaştığını hatırlamıyorum.
- D) Hasılı, her şey kendi doğal kuralları içinde yapalım derken de hepten yıkılmaya özen göstermeli!
- E) Ne acıdır ki, doğru plan ve projeler ortaya koymadan mevcudu tahrip ediyor.

12. Kitap sayfalarındaki adlar, aradan geçen yıllara karşın yıpranmaz, belleğimizden hiç silinmez. Söz gelimi Dostoyevski'nin sarah, kumarbaz, dost delisi, aşkı can evinde yaşayan kişileri, en güç adlarıyla belleğimde yaşar.

Bu parçadan çıkarılabilecek en kapsamlı yargı aşağıdakilerden hangisidir?

- A) Edebi eserlerdeki kişi adları hiç unutulmaz.
- B) Dostoyevski'nin yarattığı tipler insanı derinden etkileyen niteliklere sahiptir.
- C) Gerçek kişiler yaşamın karmaşası içinde çoğu zaman belleğimizden silinir.
- D) Kitaplarla içli dışlı olanlar kitap kişilerine gerçek yaşamdaki kişilerden daha çok değer verir.
- E) Sanatçılar kahraman adlarını, unutulmayacak olanlardan seçerler.

13. Bir akşam vakti duyduğumuz hüznün, acıma, memleket hasreti, ölüm korkusu, rüyalar, eski günler şiiri besleyen temalardır. Ancak herkesi ilgilendiren bu konularla şair olunmaz. Şairlik bunları herkesin benimseyeceği biçimde anlatan özü bulmakla başlar.

Bu parçada vurgulanmak istenen düşünce aşağıdakilerden hangisinde verilmiştir?

- A) Şairlik, herkesin yaşayabileceği duyguları herkesin benimseyeceği bir ustalıkla söyleyebilmektir.
- B) Şair en güzel ve en acı yaşantıları duymalı ve duyurmalıdır.
- C) Şiirin malzemesi duygular ve düşünceler değil, sözcüklerdir.
- D) Şiir yalnızca bir duygu işi değildir.
- E) İnsana özgü bütün haller şiiri besleyen ana kaynaktır.

14. Türk roman geleneğinden çok, evrensel roman çerçevesi içinde işini çok ciddiye alan çok titiz çalışan bir yazardı. Kendi kusurlarını görmekten başkalarının kusurlarını görmezdi. Yaptığı işin tam olduğuna kendi inanmadan “Bu işi de bitirdim” demezdi. Nitelikten ödün vermek istemediğinden az ürün verdi.

Aşağıdakilerden hangisi bu parçada belirtilen sanatçının özelliklerinden değildir?

- A) Titiz ve ciddi bir şekilde çalıştığına
- B) Öz eleştiri yaptığına
- C) Az sayıda fakat nitelikli eserler verdiğine
- D) Ele aldığı konuyu birçok açıdan değerlendirdiğine
- E) Mükemmellik duygusu taşıdığına

15. Ona göre şiir bugün anladığımız anlamda bir sanat değildir. Şiirleri felsefeden su içmekle birlikte şiirin ihtiyacı doğduğuna, onu allayıp pullamanın yersizliğine inanır. Öyle ki şiirlerindeki imge kuruluşlarında da bu kendini belli ediyor. Ona göre, yaşananlar oldukça basit bir söyleyişle yazıya geçirilmeli.

Bu parçada sözü edilen şairin aşağıdakilerden hangisini söylemesi beklenemez?

- A) Olayları olabildiğince basit bir anlatımla dile getirmek gerekir.
- B) Şair, düşünceden beslenmelidir.
- C) Gerçek şiirde söz sanatı kullanmaya gerek yoktur.
- D) Şiir, duyguları dile getirme ihtiyacından doğmuştur.
- E) Şiirde düşünce aramak gereksizdir.

16. Sözcükleri onun kadar kim sevebilir? Sevdiği sözcükler ziyan olmasın diye şiirde kullanmadığını denemede; denemede kullanmadığını güncede kullanmıştır; ama mutlaka kullanmıştır. Her sözcüğü yerli yerinde kullanır, gelişigüze fırsat vermezdi. Bir deneme ustası olarak ünlenmişti. Oysa kendi macerasını yazıya döken öykücü olmak daha yakışır şanına.

Sanatçının bu parçada hangi yönünden söz edilmiştir?

- A) Şairliğinin daha güçlü olmasından
- B) Sözcükleri ustaca kullanmasından
- C) Daha çok denemeci olarak tanınmasından
- D) Birçok türde eser vermesinden
- E) Eserlerinde yaşamına yer vermesinden

17. Bu hastalığa yakalananlar olayları ve olguları gerçek boyutları içinde göremezler. Sınırsız düş gücünün penceresinden bakarlar dünyaya. Bunun için de gerçekler karşısında yenilgiden yenilgiye uğrarlar.

Bu parçanın sonuna, aşağıdakilerden hangisi getirilemez?

- A) Yenilmekten sanki tat alırlar.
- B) Yaptıkları hatalardan da ders almazlar
- C) Yenilgilerinin de yanılıklarının da farkında değildirler.
- D) Çevrelerinde onları uyaracak kimse yoktur.
- E) Bu, onların özünde vardır.

18. Hırçın olduğu zamanlar, başkasını kırmamaya ayrı bir özen gösterirdi. Söyleyeceklerini içinde tutmazdı. Etrafındaki kişilerin kusurlarını yüzüne söylerdi. Onun içten davranışlarını herkes fark eder, kimse de onu yanlış anlamazdı. Yüzünden gülümseme eksik olmayan bu insan öldüğünde arkasından ağlamayacak kimse tanımıyorum. Olsa olsa bir tek kişi onun ölümünü alaya alırdı; kendisi.

Bu parçada sözü edilen kişi hakkında, aşağıdakilerden hangisi söylenemez?

- A) Samimi
- B) Herkesçe sevilen
- C) Hiçbir şeyi umursamayan
- D) Sözünü esirgemeyen
- E) Kendini kontrol eden

19. Bir eleştirmen olan arkadaşım ile buluştuk. Kendisine yeni bir şiirimin dergide yayımlandığını söyledim, o da okumamı istedi. Okumaya başladım, şiiri bitirince, “Nasıl?” diye sordum. “Eh, fena değil.” dedi, beğenmediğini belli edercesine. “al bir de sen oku” dedim. Dergiyi aldı, şiirin altında Tanpınar’ın imzasını görünce bir kahkaha patlattı. Ben de takılmadan edemedim: “Bu şiiri, Tanpınar’a ait olduğunu söyleyerek okusaydım, inanıyorum ki “güzel bir şiir” diyecektin. Bu durum karşısında senin gibi davranacak çok eleştirmen olduğunu biliyorum.”

Yazar, bu sözleriyle eleştirmenlerle ilgili olarak aşağıdakilerden hangisini anlatmak istemiştir?

- A) Şiirleri önyargılarla değerlendirdikleri.
- B) Eleştirilerini belli kuralları gözeterek yapmadıklarını
- C) Şiir değerlendirmesi yapabilmeleri için iyi bir şiir bilgisine sahip olmaları gerektiği
- D) Yazarları inciten sözler söyleyerek görüşlerini açıkladıklarını.
- E) Şiir yazmanın güç bir iş olduğunu kavrayamadıklarını

20. Aşağıdaki cümlelerin hangisinde hem olumlu hem de olumsuz bir eleştiri söz konusudur?

- A) Yazarın, konu seçimindeki dikkati, anlatımındaki sığılığı örtmeye yetmiyor.
- B) Bu romanda, kahramanların kişiliklerinin yansıtılmasında oldukça yüzeysel kalındığı görülüyor.
- C) Geleneğe yeni yorumlar katması, onu okurunun gözünde farklı kılıyor.
- D) Romancı, roman kişilerini, çevrelerine göre konuşturmada büyük ustalık göstermiş.
- E) Şiirlerinde yabancı sözcüklerin çokluğu şiirlerinin anlaşılmasına neden olmuş.

21. (I) Son üç yılda, iki öyküm piyasaya çıktı. (II) İkisini de takma adla yayın evlerine gönderdim ve yayımladım. (III) Eleştiriler yazma ateşimi söndürmesin diye bu öykülerde kendi adımlı kullanmadım. (IV) Bir daha roman yazarsam hiç çekinmeden imzamı atıp bu acemilikten kurtulacağım. (V) Kendi adımla yazdığım bir romanın onlardan daha iyi ses getireceğine inanıyorum artık.

Bu parçada numaralanmış cümlelerden hangisinde koşul anlamı vardır?

- A) I. B) II. C) III. D) IV. E) V.

22. Sanat değeri taşımayan eleştiriler dışında hiçbir eleştiri dikkate alınmamalı.

Aşağıdakilerden hangisi anlamca bu cümleye en yakındır?

- A) Her eleştiri okunmalı ama hangisine değer verileceği bilinmelidir.
- B) Yalnızca sanatın ilkeleriyle yapılmış eleştirilere değer verilmelidir.
- C) Her eleştiriden alınması gereken bir ders olmalıdır.
- D) Sanat eseri odak alınarak yapılan eleştiri gerçek eleştiridir.
- E) Titizlikle yapılmış eleştirilere her sanatçı değer verir.

23. Bu konuda herkes bizim düşüncemize katılmıştı.

Bu cümlelerin yüklemiyle aşağıdaki cümlelerden hangisinin yüklemi arasında çatı yönünden bir benzerlik vardır?

- A) Tartışmada birçok düşünce ele alındı.
- B) Tartışmadan ilk önce biz çekildik.
- C) Aldığımız bazı eşyalar hiç beğenilmedi.
- D) Yaşlı adam, bu kararı beğenmedi.
- E) Bu düşünceler önceden de eleştirildi.

24. Aşağıdaki cümlelerin hangisinde altı çizili söz yüklemi ötekilerden farklı bir ilgiyle tamamlanmıştır?

- A) Sizin gibi usta bir kalemle tanışacağım aklımın ucundan bile geçmezdi.
- B) Bu kitabın, eğitim-öğretim sezonuna yetişeceğini sanmıyorum.
- C) Federasyon, yarışmalara katılmayacağını önceden bildirmişti.
- D) Deney yapmaktan hoşlananları laboratuarlara aldılar.
- E) Öğrenciler her zaman kitap okumaya vakit bulamadıklarını söylerler.

25. Üç günden beri uykusuzum (I) Uyumayı unuttum (II) desem abartmamış olurum (III) Yastığa başımı koyup (IV) tatlı rüyalara dalmayalı (V) neredeyse dört ay oldu.

Bu parçada numaralanmış yerlerden hangisine hiçbir noktalama işareti getirilemez?

- A) I. B) II. C) III. D) IV. E) V.

26. Aşağıdakilerin hangisinde altı çizili sözcüğün yazımında bir yanlışlık vardır?

- A) Herkes denizi güzel diye tatil için Gölcük'ü tercih ediyor.
- B) Buradaki evlerin etrafını hanımeli kokusu kuşatmıştı.
- C) O da bizim evin karşısındaki ilk öğretim okuluna kaydoldu.
- D) Boğaz'da batık birçok denizaltı varmış.
- E) Kültür konusunda makaleleriyle topluma kılavuzluk etmiştir.

27. Aşağıdaki cümlelerin hangisinde ünlü düşmesi olmuştur?

- A) Bu macera hüsrana ile sona erdi.
- B) Bu öğrencinin kaydını hemen yapalım.
- C) Kalp ameliyatı olmaya karar vermiş.
- D) Sorunsuz bir yaşam sürdürmek istiyoruz.
- E) Hafta sonu açılan mağazada büyük izdiham vardı.

28. – 30. soruları aşağıda verilen bilgilere göre cevaplandırınız.

Dokuz kapıdan oluşan bir evdeki kapılar birden dokuza kadar numaralanmıştır. Bu kapıların üçü siyah, üçü beyaz, üçü de gridir. Kapıların renkleriyle ilgili aşağıdaki bilgiler verilmiştir.

- 3. kapı beyazdır.
- 1. ve 6. kapılar aynı renktedir.
- Gri kapıların numarası tek sayıdır.

28. Buna göre kaç kapının rengi kesin olarak bilinmemektedir?

- A) 2 B) 3 C) 4 D) 5 E) 6

29. Aşağıdakilerden hangisi kesinlikle doğrudur?

- A) 2.kapı siyahtır
- B) 5.kapı gridir.
- C) 1.ve 8.kapılar aynı renktedir
- D) 4.ve 8.kapılar aynı renktedir.
- E) 4.ve 6.kapılar farklı renktedir.

30. Aşağıdakilerden hangisi siyah kapılardan biri ola-
maz?

- A) 1. B) 2. C) 3. D) 7. E) 8.

31. $\frac{2012^3 + 1}{2012^2 - 2011}$ işleminin sonucu kaçtır?

- A) 2011 B) 2012 C) 2013
D) 2014 E) 2015

32. $x = 2017 - 2015 + 2013 - 2011 + \dots + 5 - 3 + 1$
olduğuna göre, x in 5 ile bölümünden kalan kaçtır?

- A) 0 B) 1 C) 2
D) 3 E) 4

33. $\left(\frac{2}{3}\right)^{x^2 - 4x} > \left(\frac{81}{16}\right)^{-15}$
eşitsizliğini sağlayan x tam sayılarının toplamı kaç-
tır?

- A) 20 B) 22 C) 30
D) 36 E) 38

34. a, b sıfırdan ve birbirinden farklı rakamlardır.

$$\frac{\sqrt[3]{aa} + \sqrt[3]{a}}{\sqrt[3]{bb} + \sqrt[3]{b}}$$

ifadesinin değeri aşağıdakilerden hangisi olabilir?

- A) $\frac{1}{2}$ B) $\frac{6}{5}$ C) $\frac{9}{7}$
D) $\frac{8}{3}$ E) $\frac{7}{2}$

35. Ardışık iki sayının ebob ve ekokları toplamı 507
olduğuna göre, bu iki sayının toplamı kaçtır?

- A) 44 B) 45 C) 46
D) 47 E) 48

36. Birden başlayarak ardışık doğal sayılar yan yana
aşağıdaki gibi yazılıyor.

12345.....101112.....363738.....

Buna göre, baştan 46. rakam kaçtır?

- A) 1 B) 2 C) 3
D) 4 E) 5

37. Bir spor kulübü maç biletlerinin %20 indirim yaptığında maça giden taraftar sayısı %20 artmaktadır

Buna göre kulübün kasasına giren paranın % değişimi kaçtır?

- A) %8 azalır
B) %4 azalır
C) Değişmez
D) %4 artar
E) %8 artar

38. “YÖRÜNGE” kelimesinin harfleriyle “Y” ile başlayan “E” ile biten yedi harfli anlamlı ya da anlamsız kaç kelime yazılabilir?

- A) 24
B) 120
C) 240
D) 720
E) 5040

39. $\frac{a}{b} = \frac{c}{d} = \frac{e}{f} = \frac{3}{4}$

$$2b - 3d + f = 12$$

$$2a + e = 6$$

olduğuna göre, c kaçtır?

- A) -1
B) 0
C) 1
D) 2
E) 3

40. Ali, Yaşar'a diyor ki “Ben senin yaşındayken benim yaşım senin yaşının 4 katıydı.”

Yaşar bugün 24 yaşında olduğuna göre, Ali bugün kaç yaşındadır?

- A) 40
B) 42
C) 44
D) 46
E) 48

41. Yaş üzüm kurutulduğunda ağırlığının %20 sini fire veriyor.

Yaş üzümün kilogramını 1,2 TL den alan bir kişi kuru üzümün kilogramını kaç TL'den satarsa satış sonunda %20 kar eder?

- A) 1,5
B) 1,6
C) 1,7
D) 1,8
E) 1,9

42. x, y, a ve b pozitif birer sayı olmak üzere,

$$\frac{x}{a} \cdot \frac{b}{y} = 2$$

$$\frac{a^2}{x^2} + \frac{b^2}{y^2} = 20$$

olduğuna göre, a nın x türünden değeri aşağıdaki-lerden hangisidir?

- A) $2x - 2$
B) $2x$
C) $3x$
D) $2x + 4$
E) $2x + 5$

43. Tuz oranı %40 olan bir miktar tuz-su karışımının $\frac{1}{5}$ i dökülüyor ve yerine dökülen miktar kadar saf su konuluyor.

Yeni karışımın tuz yüzdesi kaçtır?

- A) 28 B) 29 C) 30
D) 31 E) 32

46. – 48. soruları aşağıda verilen bilgilere göre cevaplandırınız.

Nüfusu 1.000.000 olan bir bölgede nüfusun %20si çalışmaktadır. Çalışanların sektörlere göre dağılım yüzdeleri aşağıdaki tabloda verilmiştir.

Sektörler	Çalışanların sektörlere göre dağılım yüzdeleri (%)
Tarım	35
Sanayi	25
Hizmet	20
Serbest Meslek	15
Ticaret	5

44. Bu bölgede çalışan kişi sayısı kaçtır?

- A) 500.000 B) 400.000
C) 300.000 D) 200.000
E) 100.000

45. Hangi sektörde çalışanların sayısı tüm bölgedeki nüfusun %1 i dir?

- A) Ticaret B) Hizmet
C) Sanayi D) Tarım
E) Serbest Meslek

46. Bu bölgede tarım sektöründe çalışan kişi sayısı sanayi sektöründe çalışanlardan % kaç fazladır?

- A) 25 B) 30 C) 35
D) 40 E) 45

47. $\sqrt{9 + 4\sqrt{2}} + \sqrt{9 - \sqrt{32}}$

işleminin sonucu kaçtır?

- A) $2\sqrt{5}$ B) $2\sqrt{7}$ C) $\sqrt{15}$
D) $3\sqrt{2}$ E) $4\sqrt{2}$

48. $|x - 2| + |6 - 3x| - |2x - 4| = 12$

eşitliğinde x in alabileceği değerler çarpımı kaçtır?

- A) 28 B) 20 C) -20
D) -28 E) -32

49. a rasyonel sayı ve b irrasyonel sayıdır.

Buna göre, $a.b + 2a$ ifadesinin eşiti aşağıdakilerden hangisi olamaz?

- A) 0 B) $\sqrt{2}$ C) 2
D) $\sqrt[3]{2} - 2$ E) $\pi - 2$

50. 4 ü sarı 12 bilyenin bulunduğu bir kutudan rastgele bir bilye çekiliyor.

Çekilen bilyenin sarı olmama olasılığı kaçtır?

- A) $\frac{3}{4}$ B) $\frac{2}{5}$ C) $\frac{1}{7}$
D) $\frac{3}{5}$ E) $\frac{2}{3}$

51. Gerçek sayılarda tanımlı \bullet işlemi

$$x \bullet y = x + y - 7$$

" \bullet " işlemine göre, 5 in tersi aşağıdakilerden hangisidir?

- A) -7 B) -5 C) 2
D) 9 E) 13

52. Bir adet kanepelyi A şahsı 75 saatte, B şahsı 100 saatte, C şahsı 120 saatte yapıyor.

Bu üç şahsı 57 tane kanepelyi kaç günde bitirir?

- A) 65 B) 70 C) 75
D) 80 E) 85

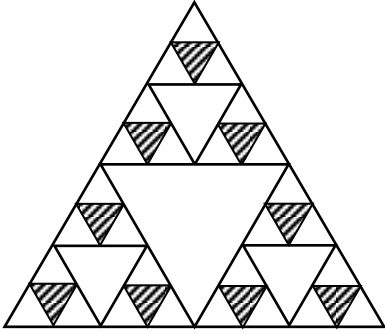
53. $\frac{42!}{8^x}$ ifadesi tek olduğuna göre, x in alabileceği pozitif tam sayı değeri kaçtır?

- A) 12 B) 13 C) 14
D) 15 E) 16

54. $(0,3 + 0,03 + 0,003 + \dots)^a = 243$ olduğuna göre, a nın değeri kaçtır?

- A) -5 B) -3 C) 0
D) 3 E) 5

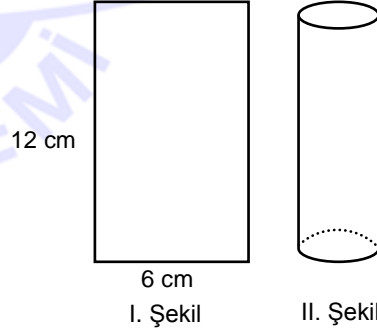
55.



Şekilde bir kenarı 8 cm olan ABC eşkenar üçgeninde oluşan fraktaldaki (aynı şeklin iç içe büyütülüp küçültülmesi) taralı bölgelerin alanları toplamı kaç cm^2 'dir?

- A) $3\sqrt{3}$ B) $\frac{9\sqrt{3}}{4}$ C) $2\sqrt{3}$
D) $\frac{5\sqrt{3}}{4}$ E) $\frac{\sqrt{3}}{4}$

56.

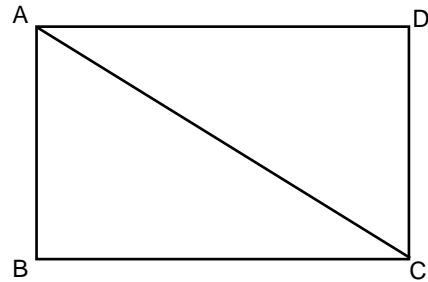


I. şekildeki levha bükülerek bir dik silindir oluşturulmaya çalışılıyor.

Oluşan silindirin hacmi kaç cm^3 tür? ($\pi = 3$ alınız.)

- A) 32 B) 36 C) 40
D) 44 E) 48

57.



ABCD dikdörtgen

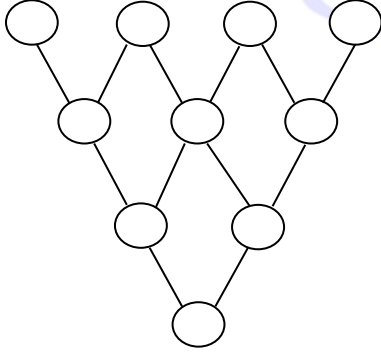
$|BC| = |DC| + 2 \text{ br}$

$|AC| = 10 \text{ br}$

olduğuna göre, ABCD dikdörtgeninin alanı kaç cm^2 'dir?

- A) 24 B) 36 C) 48
D) 72 E) 80

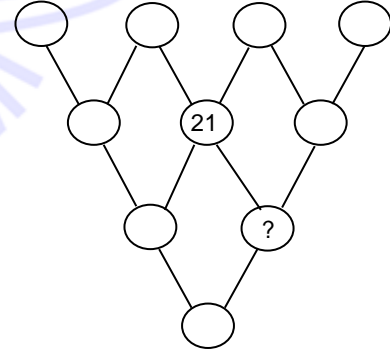
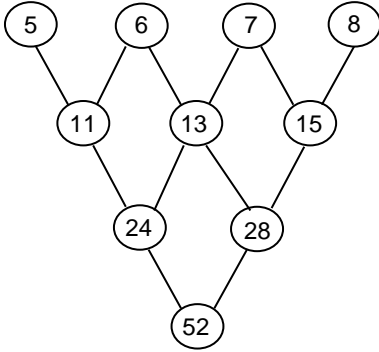
58.



Yukarıdaki gibi üçgen biçiminde yerleştirilmiş çemberlerin içine aşağıda verilen kurala göre sayılar yazılarak sayı üçgenleri oluşturuluyor.

KURAL:

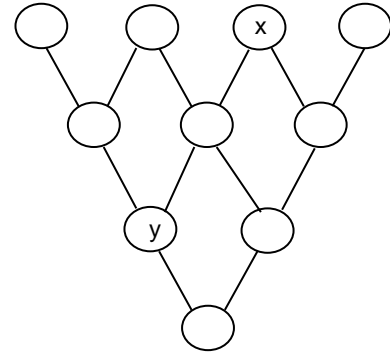
Önce, üst satırdaki dört çemberin içine, soldan sağa doğru artan ardışık sayılar yazılacaktır. Sonra, yan yana olan iki sayının toplamı, çizgilerin birleştiği alt satırdaki çembere yazılarak sayı üçgeni tamamlanacaktır.

ÖRNEK:

Yukarıdaki sayı üçgeninde, soru işaretinin yerine hangi sayı yazılmalıdır?

- A) 36 B) 40 C) 44
D) 48 E) 52

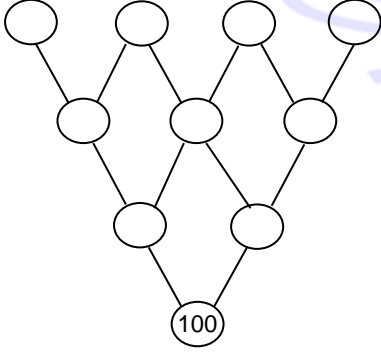
59.



Yukarıdaki sayı üçgenine göre, y nin x türünden eşiti aşağıdakilerden hangisidir?

- A) $x + 4$ B) $2x + 2$ C) $3x - 6$
D) $3x + 4$ E) $4x - 4$

60.



Yukarıdaki sayı üçgeninin ilk satırdaki dört sayının toplamı kaçtır?

- A) 20 B) 30 C) 40
D) 50 E) 60

GENEL YETENEK TESTİ BİTTİ.
GENEL KÜLTÜR TESTİNE GEÇİNİZ.

1. Aşağıdakilerden hangisi, Türk toplulukları arasında gösterilemez?

- A) Avarlar B) Emeviler C) İskitler
D) Bulgarlar E) Peçenekler

2. Timur Devleti Dönemi'nde, Ali Şir Nevai tarafından kaleme alınmış eser aşağıdakilerden hangisidir?

- A) Muhakemet'ül Lûgateyn
B) Atabet'ül Hakayık
C) Şehname
D) Kutadgu Bilig
E) Divan-ı Lûgat'it Türk

3. Anadolu Selçuklu Devleti'nde İstifa Divanı'nın görevleri arasında,

- I. Başkanı olan Müstevfi'nin, mali işlerin tümünden sorumlu olması,
II. Devletin gelir-gider işlerine bakması ve vergilerin toplanması,
III. Askeri ve adli işler dışında, mali ve idari alanlarda denetim yapması,

yukarıda verilenlerden hangisi ya da hangileri gösterilebilir?

- A) Yalnız II B) I ve II C) I ve III
D) II ve III E) I, II ve III

4. Osmanlı Devleti'nde XVII. Yüzyıldan itibaren hazine gelirlerinin arttırılmak istenmesi, aşağıdaki vergilerden hangisinin vergi gelirleri içindeki oranını arttırmıştır?

- A) Avarız B) Ağnam C) Bac
D) Derbent E) Arus

5. II. Mahmut Dönemi'nde;

- Eşkinci,
- Sekban-ı Cedit

ocaklarının kurulmalarının ortak amacı aşağıdakilerden hangisidir?

- A) Donanmayı geliştirmek
B) Tımarlı sipahilere son vermek
C) Batı tarzında ordu kurmak
D) Redif Birlikleri'ne kaynak sağlamak
E) Kaldırılan Yeniçeri Ocağı'nın yerine yeni bir ordu kurmak

6.

- Satılamaz, başkasına devredilemez.
- Vergi alınamaz, miras bırakılamaz.

gibi hükümler içeren Osmanlı toprak sistemi aşağıdakilerden hangisidir?

- A) Öşriyye B) Haraciye C) Vakıf
D) Mukataa E) Malikâne

7. İttihat ve Terakki Cemiyeti'nin amaçları arasında;

- I. Anayasal yönetime geçmek,
II. Mutlakiyeti güçlendirmek,
III. Meşrutiyete geçmek,

yukarıda verilenlerden hangisi ya da hangileri gösterilebilir?

- A) Yalnız I B) Yalnız II C) Yalnız III
D) I ve III E) II ve III

8. Osmanlı Devleti'nde ilk kez iç ve dış borçlanma aşağıdaki padişahların hangileri tarafından yapılmıştır?

- A) III. Mustafa – Abdülmecit
- B) III. Murat – II. Abdülhamit
- C) I. Abdülhamit – Abdülmecit
- D) III. Selim – II. Mahmut
- E) III. Mehmet – Abdülaziz

9. Osmanlı Devleti'nde, XVII. Yüzyılda görülen;

- I. Vergilerin yükseltilmesi,
- II. Taşrada asayiş ve güvenliğin azalması,
- III. Tımar Sistemi'nin bozulması,

yukarıdaki gelişmeler, aşağıdakilerden hangisine sebep olmuştur?

- A) Kapıkulu İsyanları'na
- B) Celâli İsyanları'na
- C) Çınar Olayı'na
- D) Patrona Halil İsyanı'na
- E) 31 Mart Olayı'na

10. 1848 İhtilalleri ile krallar halka yeni haklar vermek zorunda kalmışlar, Avrupa'da demokratikleşme hareketleri hız kazanmıştır. Buna göre, 1848 İhtilalleri ile ortaya çıkan fikirlerin Osmanlı Devleti'ndeki

- I. Islahat Fermanı'nın ilanı,
- II. Meşrutiyet'in ilanı,
- III. Tanzimat Fermanı'nın ilanı,
- IV. Sened-i İttifak'ın hazırlanması

gelişmelerin hangilerinde etkili olduğu savunulabilir?

- A) I ve II
- B) II ve III
- C) III ve IV
- D) I, III ve IV
- E) II, III ve IV

11. Aşağıdakilerden hangisi I. Dünya Savaşı'nın sonuçları olarak gösterilemez?

- A) Polonya, Yugoslavya ve Çekoslovakya'nın kurulması
- B) Sivil Savunma Örgütleri'nin önemi ve sayılarının artması
- C) Totaliter Rejimlerin kurulması
- D) Sömürgeciliğin sona ermesi
- E) Cemiyet-i Akvam'ın kurulması

12. Fatih Sultan Mehmet, İstanbul'un fethinden sonra, devlet yönetiminde o güne dek etkili olan Çandarlı ailesini yönetimden uzaklaştırmıştır.

Bu duruma;

- I. II. Mehmet'in yönetimdeki kişisel otoritesini güçlendirmek istemesi
- II. Sancak sistemini uygulaması
- III. Kanunname-i Ali Osmani'yi hazırlaması

hangilerinin etkisi olduğu savunulabilir?

- A) Yalnız I
- B) Yalnız II
- C) Yalnız III
- D) I ve III
- E) II ve III

13. Osmanlı Devleti'nde kadıların ataması kazasker tarafından yapılmış, taht kadısı ise padişah tarafından atanmıştır.

Bu bilgiye göre;

- I. Kadıların yönetimde saygınlığını artırmak,
- II. Eğitimi denetim altına almak,
- III. Yargı bağımsızlığını sağlamak

yargılarından hangileri söylenebilir?

- A) Yalnız I
- B) Yalnız II
- C) Yalnız III
- D) I ve II
- E) II ve III

14. Mustafa Kemal'in Samsun'a 9. Ordu Müfettişi olarak gönderilişinde;

- I. Sivil halkı örgütleme yeteneğinin olması,
- II. İtilaf Devletleri tarafından savaş suçlusu olarak ilan edilmemesi,
- III. Divan-ı Harp'te yargılanacağı kararının olmaması,
- IV. I. Dünya Savaşı yıllarında, siyasetle uğraşmaması

özelliklerinden hangisi ya da hangilerinin etkisi olduğu söylenebilir?

- A) Yalnız II B) II ve III C) Yalnız IV
D) I ve IV E) II, III ve IV

15. Aşağıdaki ayaklanmalardan hangisi büyük ölçüde Fransızların desteği ve kışkırtmalarıyla çıkartılmıştır?

- A) Urfa – Milli Aşireti Ayaklanması
B) Yozgat – Çapanoğlu Ayaklanması
C) Konya – Delibaş Mehmet Ayaklanması
D) Suşehri – Zara – Koçgiri Ayaklanması
E) Nazilli – Yörük Ali Ayaklanması

16. TBMM'nin Sevr Antlaşması'na karşı çıkmasına rağmen, Sevr'i kabul ettirmek isteyen İtilaf Devletleri ile Londra Konferansı'nda bir araya gelmesi;

- I. TBMM'nin Milli Mücadele'den vazgeçtiği,
- II. İtilaf Devletleri'nin TBMM'yi resmen tanıdığı,
- III. İtilaf Devletleri'nin amaçlarına ulaştığı,

durumlarından hangisi ya da hangilerinin göstergesidir?

- A) Yalnız I B) Yalnız II C) Yalnız III
D) I ve II E) II ve III

17. Kurtuluş Savaşı Dönemi'nde, Kuva-i Milliye güçleriyle savunma yapan,

- I. Antep,
- II. Urfa,
- III. Maraş

şehirlerinden hangisi ya da hangilerine, TBMM tarafından İstiklâl Madalyası verilmiştir?

- A) Yalnız I B) Yalnız II C) Yalnız III
D) I ve III E) I, II ve III

18. Kurtuluş Savaşımızın mili bir ruh içerisinde kazanılmasını sağlamak amacıyla, aşağıdaki kurumların hangisi tarafından İstiklal Marşı için yarışma düzenlenmiştir?

- A) Heyet-i Vükelâ
B) TBMM
C) İcra Vekilleri Heyeti
D) Maarif Vekâleti
E) Encümen-i Daniş

19. Türk Dil Kurumu'nun açılması ile,

- I. Halk ile aydınlar arasındaki kopukluğu gidermek,
- II. Yazı dili ile konuşma dili arasındaki farklılıkları ortadan kaldırmak,
- III. Türkçeyi ulusal bir dil haline getirmek,

yukarıdakilerden hangisi ya da hangileri amaçlanmıştır?

- A) Yalnız II B) Yalnız III C) I ve II
D) II ve III E) I, II ve III

20.

- I. Tekke, zaviye ve türbelerin kapatılması,
- II. Medreselerin kapatılması,
- III. Kılık – Kıyafet Kanunu

Yukarıda verilen inkıaplardan hangisi ya da hangilerinin, toplumu çağdaştırırken diğer yandan da toplumda birlik ve beraberliği sağladığı söylenebilir?

- A) Yalnız I B) Yalnız II C) Yalnız III
D) I ve II E) I, II ve III

21. Aşağıdaki Atatürk İnkıâplarından hangisi, amacı ile doğru eşleştirilmemiştir?

- A) Türk Tarih Kurumu – Milli tarih bilinci, bağımsızlık
B) Şer'îye ve Evkâf'ın kalkışı – Hukuk birliği, çağdaşlık
C) Tevhid-i Tedrisat Kanunu – Laik, milli, halkçı eğitim
D) Misak-ı İktisadi Kararları – Milli ve bağımsız ekonomi
E) I. Beş Yıllık Sanayi Planı – Sosyal adalet, toplumsal refah

22. Atatürk Dönemi'nde çok partili hayata geçiş amacıyla kurulan partilerden Terakkiperver Cumhuriyet Fırkası'nın programında,

- I. Cumhuriyetçilik,
- II. Devletçilik,
- III. İnkılapçılık

ilkelerinden hangisi ya da hangileri yer almıştır?

- A) Yalnız I B) Yalnız II C) Yalnız III
D) I ve II E) I ve III

23. Atatürk Dönemi'nde yapılan inkıâplarda, Laik Hukuk'a yönelmenin nedenleri arasında aşağıdakilerden hangisi gösterilemez?

- A) Ülkede hukuk birliğinin olmayışı
B) Halkın evlenme, boşanma ve miras konularında kendi dini kurallarını uygulaması
C) Modern Ceza Hukuku'nun olmayışı
D) Yeni Türk Devleti'nin milliyetçilik esasına göre kurulması
E) Toplumsal ayrıcalık ifade eden ünvanların olması

24. Balkan Antantı'nın imzalanmasında,

- I. Bulgaristan'ın, yayılmacı bir politika izlemesi,
- II. Arnavutluğun, İtalya'nın etkisinde kalması,
- III. Almanya'da Nazi partisinin iktidara gelmesi

durumlarından hangisi ya da hangilerinin etkisi olduğu savunulabilir?

- A) Yalnız I B) Yalnız II C) Yalnız III
D) I ve II E) I, II ve III

25. Küreselleşme yıllarında görülen bilimsel ve teknolojik gelişmeler arasında aşağıdakilerden hangisi yer almaz?

- A) Nano teknolojinin kullanılması
B) İnternet kullanımının yaygınlaşması
C) İlk koyunun kopyalanması
D) Lazerin icat edilmesi
E) Uluslararası Uzay İstasyonu'nun yapımına başlanması

26. Eisenhower Doktrini'nin amaçları arasında aşağıdakilerden hangisinin olduğu söylenebilir?

- A) Filistin topraklarında İsrail Devleti'nin kurulmasını sağlamak
- B) Süveyş Kanalı'nın kontrolünü ABD'nin eline geçirmek
- C) Ortadoğu'da SSCB'nin üstünlüğüne son verip bölgeyi ABD kontrolüne almak
- D) Doğu Bloku'na karşı Batı Bloku'na maddi destek sağlamak
- E) Çin'de SSCB'nin gücünü kırıp ABD'nin üstünlüğünü artırmak

27. Türkiye – Yunanistan ilişkilerinin bozulmasında;

- I. Kıta Saharlığı Sorunu'nun yaşanması,
- II. Asala terör örgütünün çalışmaları,
- III. Fır Hattı Sorunu'nun yaşanması,
- IV. Nüfus Mübadelesi Sorunu'nun süre gelmesi

gelişmelerinden hangilerinin etkisi olduğu söylenemez?

- A) Yalnız I
- B) Yalnız II
- C) II ve III
- D) II ve IV
- E) II, III ve IV

28. Aşağıda iki kente ait enlem ve boylam dereceleri verilmiştir.

<u>Kent</u>	<u>Enlem</u>	<u>Boylam</u>
Samsun	41° Kuzey	36° Doğu
Hatay	36° Kuzey	36° Doğu

Buna göre bu iki kentte güneşin aynı anda doğabilmesi için aşağıdaki tarihlerden hangisinin yaşanması gerekir?

- A) 21 Haziran
- B) 23 Eylül
- C) 21 Mayıs
- D) 21 Aralık
- E) 23 Mart

29. Fay hatları yer kabuğunun zayıf yerlerinde oluşmuş olan kırık alanlardır.

Aşağıdakilerden hangisi fay hatlarının uzandığı yerlerin özelliklerinden biri değildir?

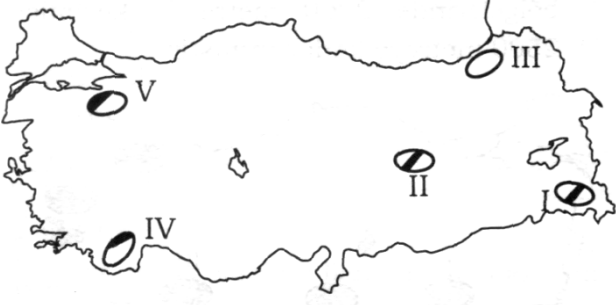
- A) Volkanik olaylar görülür.
- B) Kaplıcalar yaygındır.
- C) Genç kıvrım dağları uzanış gösterir.
- D) Şiddetli deprem oluşma ihtimali fazladır.
- E) Karstik şekiller yaygındır.

30. Marmara Bölgesi'nde tarım yapılabilecek alanların bölge içindeki oranı diğer bölgelere göre fazladır. Ancak bu bölgede tarım yapılan arazilerin sürekli azaldığı görülmektedir.

Aşağıdakilerden hangisinin bu duruma neden olduğu söylenemez?

- A) Bölgedeki sanayi tesislerinin verimli tarım alanlarına doğru kayması
- B) Bölgedeki yerleşim alanlarının genişlemesi
- C) Bölgenin sürekli göç alması
- D) Bölgede erozyonla mücadele amacıyla ağaçlandırma çalışması yapılması
- E) Kent merkezlerindeki pek çok sanayi tesisinin kent dışına çıkartılması

31.



Yer şekillerinin engebeli olduğu alanlarda gerçek alan ile izdüşümü alan arasındaki fark artmaktadır. Buna göre, yukarıdaki Türkiye haritasında belirtilen alanlardan hangisinde gerçek alan ile izdüşümü alan arasındaki fark en azdır?

- A) I. B) II. C) III. D) IV. E) V.

32. Bir kıyı bölgesinde kıyı gerisindeki dağların kıyıya göre konumu ve yükseltisi aşağıdakilerden hangisi üzerinde etkili değildir?

- A) Kıyı uzunluğu
B) Kıyının derinliği
C) Bölgedeki yer altı kaynakları
D) Bölgenin iklimi
E) Bölgedeki limanların gelişmişliği

33. Ülkemiz arazilerinin arızalı ve engebeli bir topografya karakteri göstermesinde dış kuvvetlerden hangisi daha fazla etkiye sahiptir?

- A) Akarsular
B) Dalgalar
C) Rüzgârlar
D) Gel-Git
E) Buzullar

34. Buzul devrinde buzullar Türkiye'nin kıyı bölgelerinde 2200 metre iç kesimlerde 2500 metreye kadar inmiştir.



Buna göre, yukarıdaki haritada numaralandırılan alanlardan hangisinde buzul izlerine daha az rastlanır?

- A) I B) II C) III D) IV E) V

35.

İller	En sıcak ay ortalaması (°C)	En soğuk ay ortalaması (°C)	Yağış (mm)
I	22	6	1220
II	21	-2	374
III	27	9	691

Yukarıdaki tabloda üç kentin sıcaklık ve yağış ortalamaları gösterilmiştir.

Tablodaki bilgiler dikkate alındığında bu kentler sırasıyla aşağıdakilerden hangileri olabilir?

	I	II	III
A)	İzmir	Zonguldak	Eskişehir
B)	Zonguldak	Eskişehir	İzmir
C)	Eskişehir	İzmir	Zonguldak
D)	İzmir	Eskişehir	Zonguldak
E)	Zonguldak	İzmir	Eskişehir

36. Rüzgarın hızını etkileyen faktörler; iki merkez arasındaki basınç farkı, mesafe ve yer şekilleridir. Yer şekillerinin engebeli olduğu yerlerde rüzgarın hızı azalmaktadır.



Buna göre, yukarıdaki Türkiye haritasında oklar yönünde esen rüzgarların hangisinin hızı diğer şartlar eşit kabul edilirse yer şekillerine bağlı olarak daha fazla azalır?

- A) I. B) II. C) III. D) IV. E) V.

37. Sıcaklığın dağılımında enlem, yükselti ve bakı gibi birçok faktörün etkisi vardır.

- I. Bir dağın her iki yamacında kalıcı kar sınırının farklılıklar göstermesi
- II. Bir dağın yamacı boyunca bitki örtüsünün farklılıklar göstermesi
- III. Antalya'nın Ocak ayında sıcaklık değerlerinin Çanakkale'den yüksek olması

Yukarıda belirtilen yargılar aşağıdakilerden hangisi ile açıklanabilir?

	I	II	III
A)	Bakı	Enlem	Yükselti
B)	Yükselti	Enlem	Bakı
C)	Bakı	Yükselti	Enlem
D)	Enlem	Bakı	Yükselti
E)	Yükselti	Bakı	Enlem

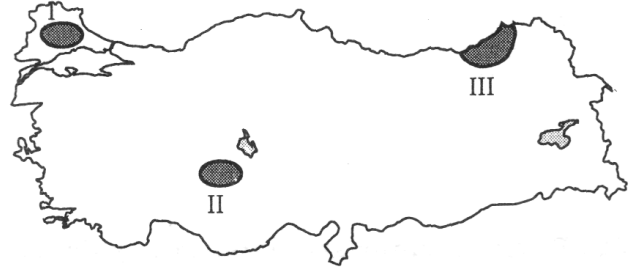
- 38.

	Donlu Gün Sayısı	Yıllık Sıcaklık Farkı
I	2	10 °C
II	154	28 °C
III	6	18 °C

Yukarıda donlu gün sayısı ve yıllık sıcaklık farkı verilen merkezler aşağıdakilerden hangisinde doğru olarak eşleştirilmiştir?

	I	II	III
A)	Samsun	Diyarbakır	Muş
B)	Konya	İzmir	Van
C)	İzmir	Diyarbakır	Antalya
D)	Rize	Erzurum	Adana
E)	Ankara	Muğla	Şanlıurfa

- 39.



Yukarıdaki haritada numaralı alanlarda yaygın olarak yetiştirilen tarım ürünleri aşağıdakilerden hangisinde doğru olarak verilmiştir?

	I	II	III
A)	Ayçiçeği	Buğday	Çay
B)	Pamuk	Şekerpancarı	Mısır
C)	Buğday	Ayçiçeği	Fındık
D)	Pirinç	Haşhaş	Turunçgil
E)	Şekerpancarı	Zeytin	Susam

40.

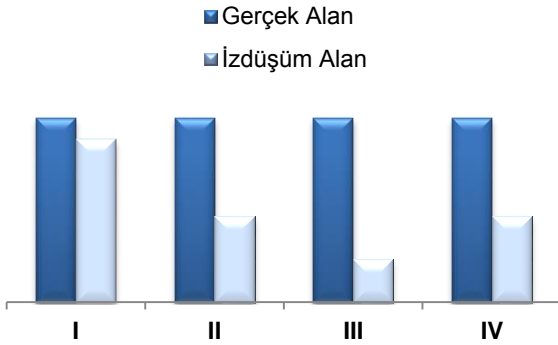
- I. Ayçiçeği - Marmara Bölgesi
- II. Tütün - Ege Bölgesi
- III. Pamuk - Akdeniz Bölgesi
- IV. Buğday - İç Anadolu Bölgesi
- V. Fındık - Karadeniz Bölgesi

Yukarıda beş tarım ürünü ile bu ürünlerin en çok yetiştirildiği bölgeler eşleştirilmiştir.

Bu eşleştirilmelerden hangisi yanlıştır?

- A) I B) II C) III D) IV E) V

41. Yer şekillerinin engebesiz olduğu alanlarda ekili-dikili alanların oranı yüksek iken, engebeli alanlarda ise ekili-dikili alanların oranı düşüktür.



Yukarıdaki grafikte, ekonomik düzeyleri benzer beş bölgenin izdüşümü alanları ile gerçek alanları verilmiştir.

Buna göre, verilen bölgelerin hangisinde sırasıyla ekili-dikili alanların oranı en fazla ve en azdır?

- | | <u>En fazla</u> | <u>En az</u> |
|----|-----------------|--------------|
| A) | I | IV |
| B) | I | III |
| C) | II | III |
| D) | IV | I |
| E) | III | IV |

42. Aşağıdaki tarım ürünlerinin hangisini kullanan endüstri kuruluşu, kullandığı tarım ürününden daha uzak bir yere kurulamaz?

- A) Çay B) Pamuk C) Ayçiçeği
D) Zeytin E) Buğday

43. İnsanların, malların veya hizmetlerin taşınmasını ifade eden ulaşım, aşağıdakilerden hangisinin gelişmesi üzerinde etkili değildir?

- A) Sanayi
B) Haberleşme
C) İletişim
D) Maden rezervi
E) Ticaret

44. Güneydoğu Anadolu Bölgesi'nde belli bölümü gerçekleştiren Güneydoğu Anadolu Projesi (GAP) bölgede beşeri ve ekonomik açıdan çeşitli değişmelere neden olacaktır.

Bu projenin tümüyle tamamlanmasından sonra, bölgede aşağıdakilerden hangisinde artış olması beklenmez?

- A) Sulanan tarım alanı
B) Başka bölgelere göç
C) İş olanakları
D) Tarımsal verim
E) Kişi başına gelir

45. Günümüz koşullarında bir yerin nüfuslanmasına etki eden en önemli faktör aşağıdakilerden hangisidir?

- A) İşlek ulaşım yolları üzerinde yer alması
- B) Eğitim ve sağlık hizmetlerinin gelişmesi
- C) Turizm etkinliklerinin artması
- D) Tarımda modern yöntemlerin uygulanması
- E) Sanayinin gelişme göstermesi

46. Uyulması zorunlu olmayan ve ancak kişiler tarafından aksi kararlaştırılmadığı takdirde uygulanması gerekli olan hukuk kuralları aşağıdakilerden hangisidir?

- A) Emredici hukuk kuralları
- B) Yorumlayıcı hukuk kuralları
- C) Tamamlayıcı hukuk kuralları
- D) Tanımlayıcı hukuk kuralları
- E) İhtiyari hukuk kuralları

47. Hukuk düzeni, kurucu unsurları içermeyen bir sözleşmeye aşağıdaki yaptırımlardan hangisini uygular?

- A) Yokluk
- B) Butlan
- C) Askıda hükümsüzlük
- D) İptal
- E) Ceza

48. Aşağıdakilerden hangisi I. Meşrutiyet Dönemi için söylenebilecek doğru bir ifade değildir?

- A) Padişahın meclisi feshetme yetkisi vardır
- B) Örgütlenme özgürlüğü tanınmıştır
- C) Padişahın hükümeti azletme yetkisi vardır
- D) Padişahın sansür yetkisi vardır
- E) Padişahın sürgün yetkisi vardır

49. Genel müsadere cezasının Türk hukuk sisteminden kaldırılışı ilk olarak aşağıdaki dönemlerden hangisinde mümkün olmuştur?

- A) 1808 Sened-i İttifak ile
- B) 1839 Gülhane Hattı Hümayunu ile
- C) 1856 Islahat Fermanı ile
- D) 1876 II. Meşrutiyet ile
- E) Kanun-i Esasi'de yapılan 1909 değişikliği ile

50. Aşağıdakilerden hangisi 1982 Anayasası'nın 2. maddesinde sayılan Cumhuriyetin niteliklerinden biri değildir?

- A) Atatürk milliyetçiliğine bağlı devlet
- B) İnsan haklarına saygılı devlet
- C) Sosyal devlet
- D) Demokratik devlet
- E) İnkılâpçı devlet

51. Aşağıdakilerden hangisi 1982 Anayasası ile benimsenen laiklik ilkesi ile bağdaşmaz?

- A) Din özgürlüğü ancak savaş durumunda sınırlanabilir
- B) Devlet, din hizmetlerini bir kamu hizmeti olarak görür
- C) Hukuk kurallarının düzenlenmesinde din kuralları esas alınmak zorunda değildir
- D) Dini tören ve ayinler kural olarak serbesttir
- E) Devletin resmi bir dini olamaz

52. Affa uğramış olsa bile aşağıdaki suçlardan hangisinden kesin hüküm giymiş olan bir kişi milletvekili seçilme yeterliliğini kaybetmiş olur?

- A) Taksirle birden fazla kişinin ölümüne sebep olma
- B) Kasten birden fazla kişinin ölümüne sebep olma
- C) Devlet sırrını açığa vurma
- D) Kasten birden fazla kişinin yaralanmasına sebep olma
- E) Mala zarar verme

53. Soyut norm denetimi yolu (iptal davası yolu) ile ilgili olarak aşağıdakilerden hangisi söylenemez?

- A) Anayasa değişiklikleri sadece şekil bakımından denetlenebilir
- B) Bir kanun ya da Anayasa değişikliğinin şekil bakımından denetlenmesini isteme yetkisi, Cumhurbaşkanı ya da Meclis üye tam sayısının beşte birine aittir
- C) Soyut norm denetimi yolu yalnızca Anayasa değişiklikleri, Kanunlar, Kanun Hükmünde Kararnameler ve TBMM iç tüzüğü değişiklikleri için işletilebilir
- D) Kanunlar, Kanun Hükmünde Kararnameler ve TBMM iç tüzüğünün şekil bakımından denetimi en geç 60 gün içinde talep edilebilir
- E) Kanunlar, Kanun Hükmünde Kararnameler ve TBMM iç tüzüğünün hem şekil hem de esas bakımından denetimi mümkündür

54. Aşağıdakilerden hangisi idarenin görevlerinden biri değildir?

- A) Özyönetim faaliyetleri
- B) Planlama faaliyetleri
- C) Kamu hizmetlerini yürütmesi
- D) Kolluk faaliyetleri
- E) Yargılama faaliyetleri

55. Aşağıdakilerden hangisi merkezden yönetim ilkesinin yararlarından biri değildir?

- A) Demokratik ilkelere uygun olması
- B) Hizmetlerin daha az harcamayla yürütülmesi
- C) Hizmetlerin rasyonel bir şekilde yürütülmesi
- D) Mali denetimin kolay olması
- E) Hizmetlerin (yeknesak) eşit bir şekilde yürütülmesi

56. Karadeniz Ekonomik İşbirliği Örgütü'nün (KEİ) 15 Aralık 2012 tarihinde İstanbul'da gerçekleşen 27. Dışişleri Bakanları Konseyi toplantısının ardından Türkiye, dönem başkanlığı görevini aşağıdaki ülkelerden hangisine devretmiştir?

- A) Azerbaycan
B) Gürcistan
C) Bulgaristan
D) Romanya
E) Ukrayna

57. 20 - 30 Haziran 2013 tarihlerinde gerçekleştirilen 17. Akdeniz Oyunları'na ev sahipliği yapan ilimiz aşağıdakilerden hangisidir?

- A) Hatay
B) Mersin
C) Antalya
D) Muğla
E) Adana

58. 21 Şubat 2012'de Artvin'de inşaatı tamamlanıp su tutulmaya başlanan, 249 metre gövde yüksekliği ile sınıfında Türkiye'nin 1., dünyanın da 6. en büyük kemer barajı aşağıdakilerden hangisidir?

- A) Belkaya Barajı
B) Çavdır Barajı
C) Onaç-1 Barajı
D) Deriner Barajı
E) Sorgun Barajı

59. 7 Şubat 2012'de başlayan, eğitim-öğretimde fırsat eşitliğini sağlamak için okullarda teknolojiyi iyileştirmeyi amaçlayan ve 3 yılda tamamlanması öngörülen projenin adı aşağıdakilerden hangisidir?

- A) Kanuni projesi
B) Fatih projesi
C) Gelişim projesi
D) Kurtuluş projesi
E) Atılım projesi

60. Arap Birliği Turizm Teşkilatı tarafından aşağıdaki illerden hangisi, 2013'te Arap Turizm Başkenti olmuştur?

- A) Antalya
B) Alanya
C) Bursa
D) İstanbul
E) İzmir

TEST BİTTİ.

CEVAPLARINIZI KONTROL EDİNİZ.